

SERTİFİKA TÜRÜ

**C-D-E**

120220111100

4. GRUP

T.C.  
MİLLÎ EĞİTİM BAKANLIĞI  
EĞİTİM TEKNOLOJİLERİ GENEL MÜDÜRLÜĞÜ  
Sınav Hizmetleri Daire Başkanlığı

KİTAPÇIK TÜRÜ

**Z**

## MOTORLU TAŞIT SÜRÜCÜ ADAYLARI SINAVI SORU KİTAPÇIĞI

Adayın Adı ve Soyadı :  
Aday Numarası (TC Kimlik No) :

- DİKKAT:** 1. Size verilen soru kitapçığının sertifika türü, almak istediğiniz sertifika türüyle aynı değilse salon görevlilerini uyararak soru kitapçığının doğru kitapçıkla değiştirilmesini sağlayınız.  
2. Soru kitapçıklarını kontrol ederek, baskı hatası olan kitapçığın değiştirilmesi için salon görevlilerine başvurunuz.  
3. Soru kitapçığındaki açıklamaları okuyunuz.  
4. Sınavda yanlarında cep telefonu, çağrı cihazı vb. iletişim araçları bulunduran adayların sınavları iptal edilecektir.  
5. Sınav giriş belgesini sınav bitiminde soru kitapçığı ve cevap kâğıdı ile birlikte salon görevlilerine teslim ediniz.  
6. Sınav saat 11.00'de başlayıp 13.30'da biter. Sınav başladıktan sonra ilk 45 dakika içinde hiçbir aday salondan çıkamaz.

### CEVAP KÂĞIDI İLE İLGİLİ AÇIKLAMALAR

1. Cevap kâğıdına kodlanmış olarak verilen kitapçık türü ile size verilen kitapçık türünün aynı olmasına dikkat ediniz. Aynı değilse salon görevlilerini uyarınız.
2. Size verilen cevap kâğıdında yazılı olan bilgilerin size ait olup olmadığını kontrol ediniz.
3. Cevap kâğıdı üzerine yazacağınız yazı ve yapacağınız işaretlemelerde kurşun kalemde başka kalem kullanmayınız.
4. Cevap kâğıdında **İLK YARDIM BİLGİSİ**, **TRAFİK ve ÇEVRE BİLGİSİ**, **MOTOR ve ARAÇ TEKNİĞİ BİLGİSİ** testleri için üç ayrı bölüm bulunmaktadır. Cevaplarınızı cevap kâğıdındaki ilgili bölümlere aşağıdaki örnekte olduğu gibi yuvarlağı, dışına taşımadan işaretleyiniz. **Soru kitapçığı üzerinde yapılan cevaplandırmalar dikkate alınmaz.**  
Yanlış karalamalarınızı düzeltirken yuvarlağın içini temizce siliniz.

ÖRNEK KODLAMA: ●

### SORU KİTAPÇIĞI İLE İLGİLİ AÇIKLAMA

1. Bu soru kitapçığında; **İLK YARDIM BİLGİSİ** dersinden 30, **TRAFİK ve ÇEVRE BİLGİSİ** dersinden 50, **MOTOR ve ARAÇ TEKNİĞİ BİLGİSİ** dersinden 40 olmak üzere toplam 120 soru bulunmaktadır. Bu sertifika türü için verilen cevaplama süresi 150 dakikadır.
2. Her sorunun dört seçeneğı vardır. Dört seçenektan sadece bir tanesi doğru cevaptır. Doğru bulduğunuz seçeneğı cevap kâğıdında o soru için ayrılan yerde bularak işaretleyiniz. Birden fazla işaretlemelerde o soru yanlış cevaplandırılmış sayılır.
3. Her ders kendi içerisinde 100 puan üzerinden değerlendirilecektir. Başarılı sayılabilmemiz için her dersten -ayrı ayrı- 70 puan almanız gerekir.
4. Size ayrı bir karalama kâğıdı verilmeyecektir. Soru kitapçığının içindeki boş alanları karalama yapmak için kullanabilirsiniz.
5. Cevabını bilmediğiniz sorular üzerinde fazla zaman kaybetmeden diğer sorulara geçiniz. Zamanınız kalırsa bu sorulara daha sonra dönebilirsiniz.
6. Cevaplarınız puanlanırken her doğru cevaba puan verilecek, yanlış cevaplarınız dikkate alınmayacaktır.
7. Sınavın bitiminde cevap kâğıdınızı ve soru kitapçığınızı salon sorumlularına teslim etmeyi unutmayınız.

Arka sayfadaki açıklamalara geçiniz.

1. Bak - Dinle - Hisset yönteminde "Bak" ne anlama gelir?

- A) Yaralının göğüs kafesinin inip kalktığına bakılması
- B) Kaza bölgesinde yanıcı madde olup olmadığına bakılması
- C) Kaç yaralı olduğuna bakılması
- D) Yaralıda kırık olup olmadığına bakılması

2. Kişinin çevre ile bağlantısının tamamen keşildiği, uyarılara cevap veremediği uzun süreli ve derin bilinç kaybına ne denir?

- A) Hâlsizlik
- B) Koma
- C) Bayılma
- D) Şok

3. Ayak veya bacadaki kanamayı azaltmak için basınç uygulanacak bölge aşağıdakilerden hangisidir?

- A) Kasık iç kısmı
- B) Bacak dış kısmı
- C) Dizin ön üst kısmı
- D) Karın ön üst kısmı

4. Çok sayıda yaralının olduğu kazalarda en son taşınması gereken kazazede aşağıdakilerden hangisidir?

- A) Açık karın yarası olan
- B) Ayak kemiği kırık olan
- C) Bilinci yerinde olmayan
- D) Solunum yolu zehirlenmesi olan

5. Kaza yerindeki araçtan, yaralının çıkarılmasında ilk aşama aşağıdakilerden hangisidir?

- A) Motorun durdurulup aracın sabitlenmesi
- B) Yaralıyı taşımak için sedye getirilmesi
- C) Aracın kapılarının açılmaya çalışılması
- D) Yaralının araçtan çıkarılabileceği çıkış yerlerinin sağlanması

6. Tıbbi yardım haberleşmesinde iletilecek mesaj nasıl olmalıdır?

- A) Ayrıntılı, detaylı ve uzun
- B) Yazılı, sözlü ve hareketli
- C) Kısa, öz ve anlaşılır
- D) Şifreli ve gizli

7. Bebeklerde (0-12 ay) tek ilk yardımcı ile yapılan dış kalp masajı uygulanması ile ilgili olarak aşağıdakilerden hangisi doğrudur?

- A) Bir elin orta ve yüzük parmağı ile göğüs kemiği 1-1,5 cm aşağıya incek şekilde basınç uygulanması
- B) Göğüs kemiği 4-5 cm aşağıya incek şekilde basınç uygulanması
- C) Sağ elin yumruk hâline getirilerek göğüs merkezine vurulması
- D) Göğüs ve sırt kısmının iki elin arasına alınarak sıkıştırılması

8. Aşağıdakilerden hangisi şokun belirtilerinden?

- A) Deride kızarıklık olması
- B) Vücut sıcaklığının artması
- C) Solunumun aniden derinleşmesi
- D) Nabzın süratli ve zayıf olması

9. Aşağıdakilerden hangisi kanamayı azaltmak için uygulanan yöntemdir?

- A) Kanayan yeri oksijenli su ile yıkamak
- B) Kanayan yere sıcak uygulama yapmak
- C) Kanayan yeri kalp seviyesinden yukarıda tutmak
- D) Kanayan bölgeyi yıkayarak pıhtıları temizlemek

10. Aşağıdakilerden hangisi solunum durmasına bağlı olarak dokuların oksijensiz kaldığını gösteren bir belirtidir?

- A) Göz bebeklerinin küçülmesi
- B) Kişinin aktif ve huzursuz olması
- C) Yüzün kızarması ve vücut sıcaklığının artması
- D) Parmak uçları ve dudaklardan başlayıp yayılan morarma olması

11. Aşağıdakilerden hangisi göğüs boşluğunda bulunan bir organdır?

- A) Mide
- B) Kalp
- C) Böbrek
- D) Karaciğer

12. Sıcak vurması (çarpması) sonucu oluşan bitkinliğin esas sebebi, aşağıdaki durumlardan hangisidir?

- A) Nabız sayısının azalması
- B) Kan dolaşımının yavaşlaması
- C) Sindirim sisteminin çalışmaması
- D) Terleme sonucu aşırı su ve tuz kaybı olması

13. • Geçici hafıza kaybı  
• Burundan kan gelmesi  
• Göz bebeklerinde büyüklük farkı

Yukarıdaki belirtiler, hangi bölge yaralanmalarında daha çok görülür?

- A) Göğüs
- B) Baş
- C) Karın
- D) Omurga

14. Diz ile kalça arasındaki kemikte kırık varsa yaralıya aşağıdakilerden hangisi uygulanmalıdır?

- A) Üzerine bastırılarak yürütülmeli
- B) Oturtularak atelle tespit edilmeli
- C) Kırık taraf üstte kalacak şekilde yan yatırılarak atelle tespit edilmeli
- D) Sırtüstü yatırılarak iç ve dış yanlardan atelle tespit edilmeli

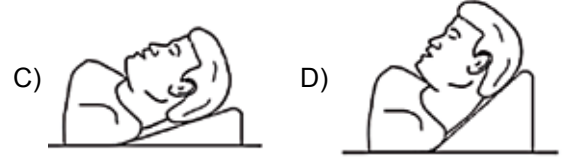
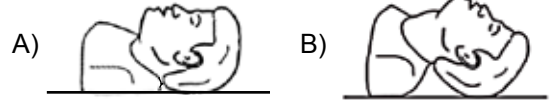
15. Aşağıdakilerden hangisi ilk yardımın amaçlarından biri değildir?

- A) İlaçla tedavi etmek
- B) Tıbbi yardım için iletişim kurmak
- C) Durumun kötüleşmesini engellemek
- D) Yaşamı korumak ve sürdürülmesini sağlamak

16. Havada bulunan oksijen ile kanda bulunan karbondioksitin yer değiştirmesi işlemi, vücudumuzdaki hangi sistem sayesinde gerçekleşir?

- A) Sinir sistemi
- B) Sindirim sistemi
- C) Solunum sistemi
- D) İskelet sistemi

17. "Ağızdan ağıza" suni solunum yapılacak olan hastada boyun travması yoksa, verilecek en uygun baş pozisyonu aşağıdakilerden hangisidir?



18. Aşağıdakilerden hangisi gözlük veya lens kullanarak görme yeterliliğine sahip olan sürücüler için doğrudur?

- A) Bu tür adaylara sürücü belgesi verilmez.
- B) Araç kullanırken gözlük veya lenslerini kullanmak zorundadırlar.
- C) Yalnızca şehir dışı yollarda gözlük veya lens kullanmak zorundadırlar.
- D) Yalnızca gece araç kullanırken gözlük veya lens kullanmak zorundadırlar.

19. Aşağıdaki durumların hangisinde egzoz gazı daha fazla zarar verir?

- A) Kapalı garaj içinde uzun süre çalıştırılan aracın egzoz gazına maruz kalındığında
- B) Tünelde camları kapalı olarak araç kullanıldığında
- C) Öndeki araç sürekli yakından takip edildiğinde
- D) Trafik ortamında kaldırımda beklenildiğinde

20. Aşağıdakilerden hangisi göğüs yaralanması olan yaralıya uygulanmaz?

- A) Yarı oturur duruma getirmek
- B) Batan cisim varsa çıkarmamak
- C) Ayaklar yüksekte tutulup sırtüstü yatırmak
- D) Açık olan yarası temiz bir bezle kapatılıp basınç yapmadan sarmak

21. Aşağıdakilerden hangisinin ilk yardım çantasında bulundurulması zorunludur?

- A) Kâğıt mendil
- B) Gazlı bez
- C) Alkol
- D) Oksijenli su

22. Aşağıdakilerden hangisi trafik kazalarının önlenmesinde en önemli unsurdur?

- A) Yolları ve kaldırımları onarmak
- B) Araçların bakım ve onarımını önemsemek
- C) Yağmurlu ve sisli havalarda daha dikkatli olmak
- D) Kuralları alışkanlık hâline getiren bireyler yetiştirmek

23. Yaralı, sağlık kuruluşuna ne zaman sevk edilir?

- A) Yakınları geldikten sonra
- B) Hiçbir müdahale yapılmadan önce
- C) Hayati tehlikelerine karşı önlem alındıktan sonra
- D) Kendine gelmesi sağlandıktan sonra

24. Kişinin elektrik akımından kurtarılması esnasında aşağıdakilerden hangisinin yapılması doğrudur?

- A) Yaralının metal bir yüzeye temasını sağlamak
- B) Metal malzeme kullanarak yaralıyı elektrik akımından uzaklaştırmak
- C) Akımı kesmekle vakit kaybetmeden kişiyi elimizle çekerek kurtarmak
- D) Tahta veya plastik malzeme kullanarak yaralıyı elektrik akımından uzaklaştırmak

25. Araçlarda emniyet kemeri kullanılmasıyla ilgili olarak aşağıdakilerden hangisi doğrudur?

- A) Şehir içi ve dışı trafikte mecburidir.
- B) Şehir içi ve dışı trafikte isteğe bağlıdır.
- C) Şehir içi trafikte isteğe bağlı, şehir dışında mecburidir.
- D) Şehir içi trafikte mecburi, şehir dışında isteğe bağlıdır.

26. Aşağıdakilerden hangisi yarı oturuş pozisyonuna alınarak taşınabilir?

- A) Omurga kırığı olan
- B) Kalça kemiği kırık olan
- C) Bilinci yerinde olmayan
- D) Kaburga kemiği kırık olan

27. Aşağıdakilerden hangisi burkulmalarda yapılan ilk yardım uygulamalarındandır?

- A) Eklem bölgesindeki şişliği azaltmak için turnike uygulanması
- B) Şişlik ve ağrıyı azaltmak için öncelikle soğuk uygulama yapılması
- C) Eklemdeki ağrıya rağmen hemen hareket ettirilmesi
- D) Burkulma ayakta ise kalp seviyesinden aşağıda tutulması

28. Aşağıdakilerden hangisi 3. derece (ağır) yanıkların bir göstergesidir?

- A) Deri bütünlüğünün bozulmaması ve derinin gergin olması
- B) Kılcal damar uçları ve sinir uçlarının açık olması
- C) Yanık bölgesinde sinir harabiyetinin olması
- D) Derinin kuru ve ağrılı olması

29. Yaralanmalarda uygulanan genel ilk yardım kuralı aşağıdakilerden hangisidir?

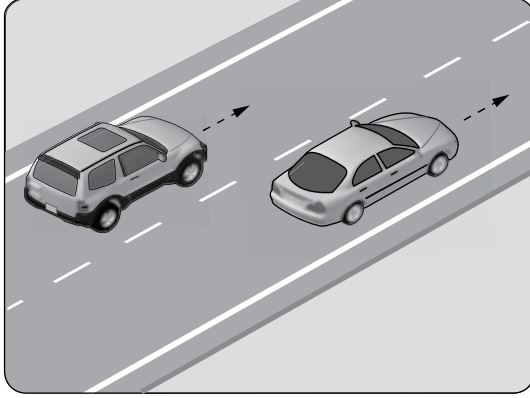
- A) Yara üzerine merhem sürüp yarayı sarmak ve nakletmek
- B) Yara üzerine tentürdiyot sürüp yarayı sarmak ve nakletmek
- C) Yarayı temiz pamukla kapattıktan sonra yara yeri sabit kalacak şekilde nakletmek
- D) Yarayı sargı bezi ile kapattıktan sonra yaralı bölge sabit kalacak şekilde nakletmek

30. Aşağıdakilerden hangisinin kalp masajı uygulanabilmesi için kesinlikle olması gerekir?

- A) Reflekslerin kaybolması
- B) Kazazedenin bilincini yitirmesi
- C) Dolaşımın durması, kalp atımlarının alınmaması
- D) Solunumun durması, göğüs hareketlerinin olmaması

İLK YARDIM BİLGİSİ TESTİ BİTTİ.  
TRAFİK VE ÇEVRE BİLGİSİ TESTİNE GEÇİNİZ.

1. Şekildeki taşıtların seyrettiği taşıt yolunun çizgilerle ayrılmış her bir bölümüne ne ad verilir?



- A) Bölünmüş yol  
B) İki yönlü yol  
C) Banket  
D) Şerit

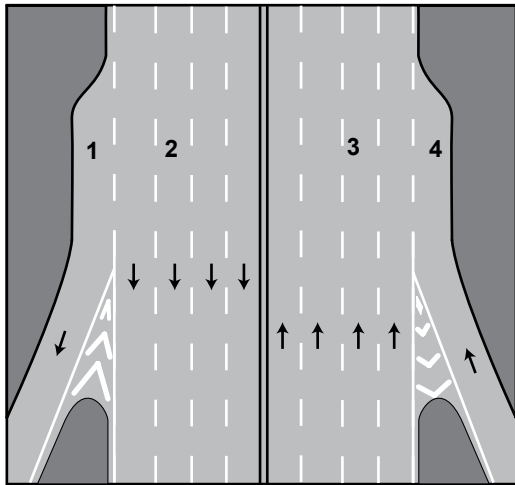
2. Zorunlu hâller dışında otoyollarda motorlu araçların asgari (en az) hız sınırı saatte kaç km'dir?

- A) 15 B) 35 C) 40 D) 50

3. Geceleri kara yolunda karşı yönden gelen sürücülerin gözlerini kamaştırmamak için hangi ışıkların yakılması zorunludur?

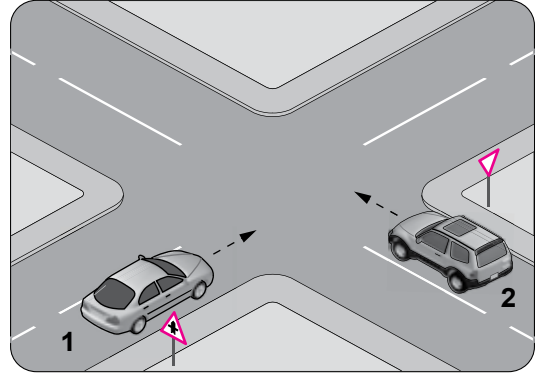
- A) Park ışıklarının  
B) Acil uyarı ışıklarının  
C) Uzağı gösteren ışıkların  
D) Yakını gösteren ışıkların

4. Şekildeki numaralanmış şeritlerden hangisi otoyollardan ayrılmak isteyen araçlar içindir?



- A) 1 B) 2 C) 3 D) 4

5. Şekildeki araçların buldukları 1 ve 2 numaralı kara yollarının adları aşağıdakilerden hangisinde doğru verilmiştir?

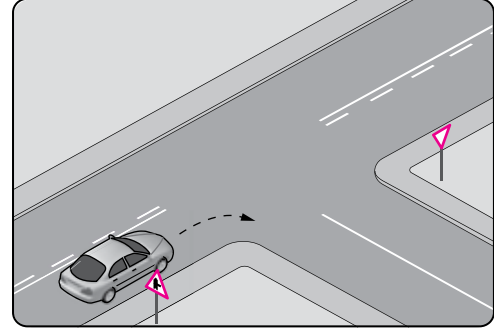


- 1  
A) Bağlantı yolu  
B) Ana yol  
C) Bölünmüş kara yolu  
D) İki yönlü kara yolu
- 2  
A) Tali yol  
B) Tali yol  
C) Bağlantı yolu  
D) Tek yönlü kara yolu

6. Aksine bir işaret bulunmadıkça aşağıdaki araçlardan hangisinin yerleşim yeri dışındaki bölünmüş yollarda azami hızı saatte 85 kilometredir?

- A) Otomobil B) Motosiklet  
C) Kamyon D) Otobüs

- 7.



- Şekildeki gibi sağa dönüş yapacak olan sürücü, aşağıdakilerden hangilerini yapmalıdır?

- I- Sağa dönüş lambasını yakmalı  
II- Hızını azaltmalı  
III- Dar bir kavisle dönmeli

- A) Yalnız I B) I - II  
C) II - III D) I - II - III

8. Trafik kazasına karışan kişilerin tümü, yetkililerin gelmesini gerekli görmez ve anlaşılarsa, durumu aralarında yazılı olarak tespit etmek suretiyle olay yerinden ayrılabilirler.

Yukarıdaki ifade hangi tür kazalarda geçerlidir?

- A) Ölümlü kazalarda  
B) Yaralanmalı kazalarda  
C) Maddi hasarlı kazalarda  
D) Maddi hasarlı ve yaralanmalı kazalarda

9. Taşıtlardaki emniyet kemerinin kullanılması konusunda Cem, Gülnur ve Alper aşağıdaki gibi düşünmektedirler.

Aşırı hız yapmayacaksam kesinlikle kullanmam.

Can emniyetim söz konusu olduğundan her zaman kullanırım.

Şehir içi trafiğinde kullanmaya gerek yok.



CEM

ALPER

GÜLNUR

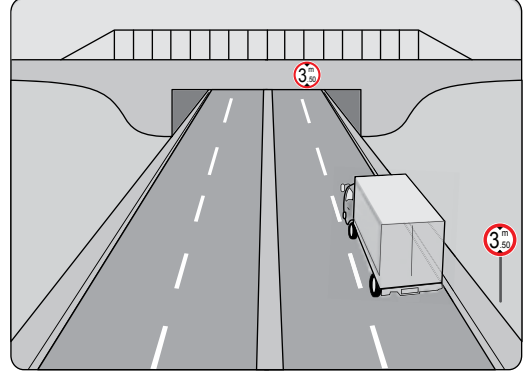
Buna göre hangisinin düşüncesi doğrudur?

- A) Cem'in  
B) Cem ve Gülnur'un  
C) Gülnur'un  
D) Alper'in

10. Bir otobüs, eğimsiz iki yönlü dar yolda aksine işaret yoksa aşağıdakilerden hangisine geçiş kolaylığı sağlamalıdır?

- A) Kamyona  
B) Kamyonete  
C) İş makinesine  
D) Lastik tekerlekli traktöre

11. Kamyon sürücüsü, şekildeki alt geçitten geçerken aşağıdakilerden hangisini dikkate almalıdır?



- A) Taşıma sınırını  
B) Dingil ağırlığını  
C) Geçme yasağını  
D) Sınırlı yükseklik gabarisini





12. Aşağıdakilerden hangisi tedbirsiz ve saygısız araç sürmeye örnek değildir?

- A) Hız kurallarına uyulması  
B) Yayaalara su sıçratılması  
C) Diğer sürücülerin korkutulması  
D) Seyir hâlinde iken sürücünün elindeki cep telefonunu kullanması

13. Işıklı trafik işaret cihazında, hangisinin yanması yolun trafiğe kapanmak üzere olduğunu bildirir?

- A) Aralıklı yanıp sönen sarı ışık  
B) Aralıklı yanıp sönen kırmızı ışık  
C) Yeşil ışıktan sonra yanan sarı ışık  
D) Kırmızı ışıkla birlikte yanan sarı ışık

14. Aşağıdakilerden hangisi azami hız sınırlaması anlamındadır?

- A)  B) 
- C)  D) 

#### 4. GRUP

#### TRAFİK ve ÇEVRE BİLGİSİ

Z

15. Aşağıdakilerden hangisi iki yönlü trafik işaretidir?

A)



B)



C)



D)



16. Aşağıdakilerden hangisi kontrolsüz kavşak işaretidir?

A)



B)



C)



D)



17. Şekildeki trafik işareti neyi bildirir?




- A) Treylerin giremeyeceğini
- B) Kamyonun giremeyeceğini
- C) Kamyon için geçme yasağının sona erdiğini
- D) Tehlikeli madde taşıyan taşıtın giremeyeceğini

18. Şekildeki trafik işareti sürücüye neyi bildirir?



- A) Hızın 70 kilometreyi geçmeyeceğini
- B) 70 metreden sonra yolun daralacağını
- C) 70 metreden sonra park alanı olduğunu
- D) Takip mesafesinin 70 metreden az olmayacağını

19. Şekildeki trafik işareti neyi bildirir?



- A) Duraklama ve park etme yasağını
- B) Kontrolsüz kavşağa yaklaşıldığını
- C) Yolun araç trafiğine kapalı olduğunu
- D) Bütün yasaklama ve kısıtlamaların sona erdiğini

20. Şekildeki trafik işaretinin bulunduğu yola aşağıdaki taşıtlardan hangisi girebilir?



- A) Otomobil
- B) Motosiklet
- C) Kamyon
- D) Otobüs

21. Şekildeki trafik işaretini gören sürücü ne yapmalıdır?



- A) Hızını artırmalıdır.
- B) Geriye dönmelidir.
- C) Hızını azaltmalıdır.
- D) Yolun kayganlığını kontrol etmelidir.

22. Şekildeki trafik işareti hangi yol bölümünde bulunur?



- A) Virajlı
- B) Kasisli
- C) Eğimli
- D) Kaygan

23. Şekildeki trafik işareti sürücülere neyi bildirir?



- A) İzci kampına yaklaşıldığını  
B) Yaya geçidine yaklaşıldığını  
C) Okul geçidine yaklaşıldığını  
D) Yerleşim biriminden çıkıldığını

24. Trafik kazalarında araçlara ait kusurlardan bazıları şunlardır:

- Kusurlu far
- Kusurlu rot
- Kusurlu fren
- Kusurlu direksiyon

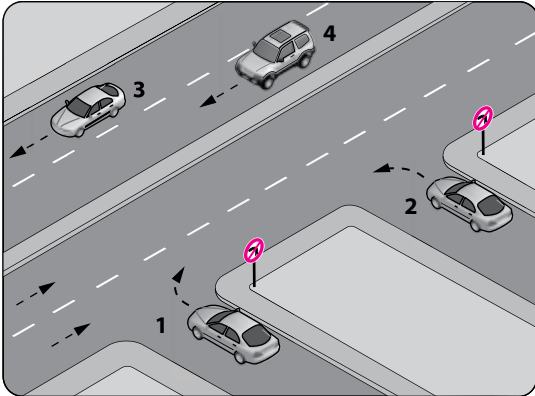
Bu sebeplere bağlı trafik kazalarını önlemek için aşağıdakilerden hangisinin yapılması uygun olur?

- A) Araç yakıtının zamanında alınması  
B) Araç bakımının zamanında yapılması  
C) Motor yağının zamanında değiştirilmesi  
D) Seyir sırasında saatte bir mola verilmesi

25. "D" sınıfı sürücü belgesi sahibi olan sürücü aşağıdaki araçlardan hangisini kullanabilir?

- A) Çekici  
B) Motosiklet  
C) Otobüs  
D) İş makinesi

26. Şekle göre, hangi numaralı araç sürücüsünün davranışı asli (esas) kusurlu hâllerden sayılır?



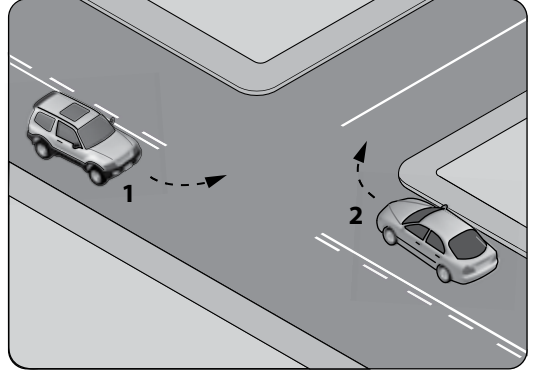
- A) 1 B) 2 C) 3 D) 4

27. I- Çekme halatı  
II- Pense, tornavida  
III- Kriko, bijon anahtarı  
IV- Bir çift patinaj zinciri

Yukarıdaki malzeme ve takımlardan hangilerinin otomobillerde bulundurulması zorunludur?


- A) I - II  
B) I - II - III  
C) II - III - IV  
D) I - II - III - IV

28. Şekle göre kontrolsüz kavşakta karşılaşan araçlardan hangisi ilk geçiş hakkını kullanmalıdır?



- A) 1 nolu araç  
B) 2 nolu araç  
C) Hızı az olan araç  
D) Hızı fazla olan araç

29. Şekildeki araç sürücüsü dönel kavşaktan geriye dönüş yapmak için hangi şeridi izlemelidir?

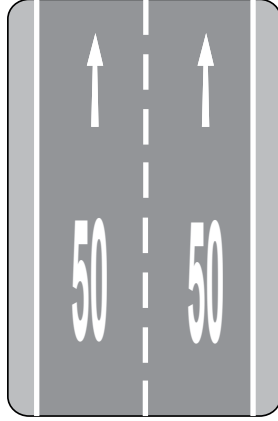


- A) 1 numaralı şeridi  
B) 2 numaralı şeridi  
C) 3 numaralı şeridi  
D) İsteddiği şeridi

30. Demir yolu (hemzemin) geçidinde aşağıdakilerden hangisinin yapılması yasaktır?

- A) Hızın azaltılması
- B) Öndeki aracın geçilmesi
- C) Bariyer kapalı ise durulması
- D) Bariyer açık ise dikkatli geçilmesi

31. Taşıt yolu üzerine çizilen şekildeki yazı neyi bildirmektedir?



- A) Işıklara 50 m kaldığını
- B) Asgari (en az) hız sınırını
- C) Azami (en yüksek) hız sınırını
- D) Öndeki araca 50 m'den fazla yaklaşılmasını

32. Kara yollarında can ve mal güvenliği yönünden trafik düzeninin sağlanması ve alınacak önlemlerin belirlenmesi amacıyla çıkarılan kanun aşağıdakilerden hangisidir?

- A) Medeni Kanun
- B) Türk Ceza Kanunu
- C) Karayolları Trafik Kanunu
- D) 2872 Sayılı Çevre Kanunu

33. Trafik görevlisinin geceleyin ışıklı işaret çubuğunu şekildeki gibi hareket ettirmesinin anlamı nedir?



- A) Geç işareti
- B) Dur işareti
- C) Yavaşlatma işareti
- D) Hızlandırma işareti

34. Ağır hasarlı veya ölümlü trafik kazalarına karışan sürücülerin aşağıdakilerden hangisini yapması yasaktır?

- A) Kazaya karışan aracın yerini değiştirmesi
- B) Olayı en kısa zamanda yetkililere bildirmesi
- C) Trafik güvenliği için ışıklı yansıtıcı cihazlar koyması
- D) İstenildiği takdirde gerekli bilgi ve belgeleri karşı tarafa vermesi

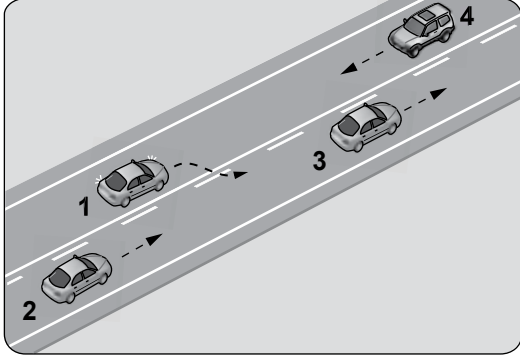
35. Kişilerin huzurunu, ruh ve beden sağlığını bozacak seviyedeki istenmeyen seslere ne ad verilir?

- A) Sesli ilan
- B) Duyuru
- C) Gürültü
- D) Konuşma

36. Sürücülerin aşağıda verilen davranışlarından hangisi çevreyi olumsuz etkiler?

- A) Araç hızına uygun viteste seyretmeleri
- B) Araçlarını gereksiz yere çalışır hâlde tutmaları
- C) Araçların bakımlarını zamanında yaptırmaları
- D) Egzoz emisyon kontrollerini zamanında yaptırmaları

37. Şekildeki durumda aşağıdakilerden hangisinin yapılması doğrudur?



- A) 4 numaralı aracın hızını artırması
- B) 1 numaralı aracın sağ şeride girmesi
- C) 2 numaralı aracın takip mesafesini azaltması
- D) 2 numaralı aracın 3 numaralı aracı geçmeye teşebbüs etmesi

38. Okul taşıtının arkasındaki DUR ışığı hangi hâllerde yakılır?

- A) Sadece öğrenci indirip bindirirken
- B) Sadece sisli, yağmurlu ve karlı havalarda
- C) Taşıtın fren lambaları arızalandığı zaman
- D) Okul taşıtı arızalanıp yolda kaldığı zaman

39. Aşağıdaki hâllerin hangisinde araçların teknik muayenelerinin yaptırılması zorunludur?

- A) Sahibi değiştiğinde
- B) Sigorta süresi bittiğinde
- C) Tescil belgesi değiştirildiğinde
- D) Üzerinde teknik değişiklik yapıldığında

40. Ülkemizde trafik kazalarındaki kusur oranının (%) yıllara göre dağılımı tablodaki gibidir.

Yıllar	Sürücü (%)	Yaya (%)	Araç (%)	Yol (%)
2005	97,68	1,98	0,15	0,14
2006	98,10	1,28	0,32	0,17
2007	98,19	1,51	0,13	0,09
2008	87,47	11,80	0,26	0,17

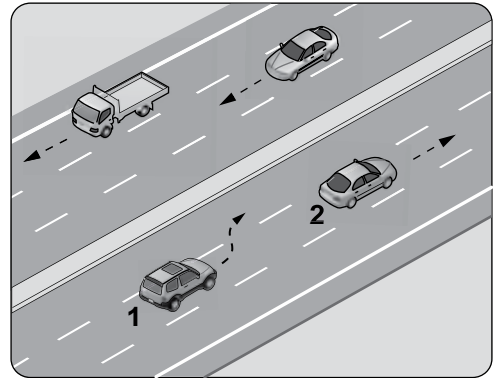
Bu verilerden hangi sonuca **kesinlikle** ulaşılır?

- A) Kazaların çoğu insan kaynaklıdır.
- B) Kazalarda insan kusurları araç ve yol kusurlarından daha azdır.
- C) Toplu taşıma yapılması ülke ekonomisini olumlu yönde etkiler.
- D) Kara yolu ulaşım sistemi, diğer ulaşım sistemlerinden daha çok kullanılmaktadır.

41. Taşıt yolunun karşı tarafına geçecek yaya- lar, aşağıdakilerden hangisini tercih etmelidirler?

- A) Banketleri
- B) Yaya geçitlerini
- C) Geçiş yollarını
- D) Yaya yollarını

42. Şerit değiştirmek isteyen şekildeki 1 numaralı taşıt sürücüsü, sola sinyal **vermeden** önce aşağıdakilerden hangisini **mutlaka** yapmalıdır?



- A) Uzun hüzmeli farları yakarak seyretmeli
- B) 2 numaralı taşıtın geç işaretini beklemeli
- C) İç ve dış aynalardan trafik durumunu kontrol etmeli
- D) 2 numaralı taşıta takip mesafesinden daha fazla yaklaşmalı

43. Aşağıdakilerden hangisi arızalı aracı başka bir araç çekerken dikkat edilmesi gereken kurallardan biridir?

- A) Her iki aracın yüklü olması
- B) Çekilen aracın sürücü yönetiminde olması
- C) Her iki aracın taşıma sınırlarının eşit olması
- D) Çekilen aracın yüklü, çeken aracın boş olması

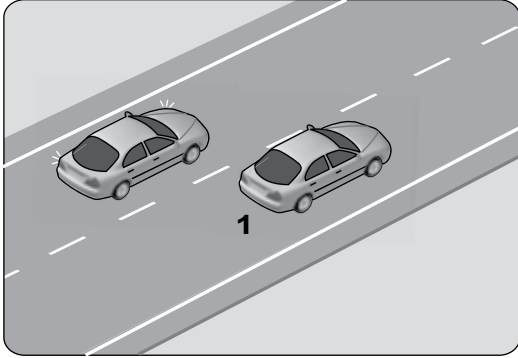
44. Aşağıdaki yerlerin hangisinde duraklama yapılması yasak değildir?

- A) Banketlerde
- B) Dönemeçlerde
- C) Yaya ve okul geçitlerinde
- D) Tepe üstlerine yakın yerlerde

45. Geçiş üstünlüğü hakkı hangi hâllerde kullanılmaz?

- A) Görev hâli dışında
- B) Şehirler arası kara yollarında
- C) Trafiğin yoğun olduğu kara yollarında
- D) Yolların buzlu ve kaygan olması hâlinde

46. Şekildeki iki yönlü yolda, 1 numaralı geçilen araç sürücüsünün aşağıdakilerden hangisini yapması doğrudur?



- A) Hızını artırması
- B) Kesik çizgi tarafına yaklaşması
- C) Uzun hüzmeli farlarını art arda yakması
- D) Gidiş yönüne göre sağa doğru yaklaşması

47. Öndeki araç geçilirken, geçiş şeridinde ne kadar seyredilmelidir?

- A) Geçilen aracın boyunun yarısı kadar
- B) Geçilen aracın ön hizasına gelinceye kadar
- C) Karşıdan gelen araçla karşılaşınca kadar
- D) Geriyi görme aynasından geçilen araç görülünceye kadar

48. Taşıt yolu üzerine çizilen aşağıdaki işaretlerden hangisi şeridin sadece ileri seyir veya sola dönüş için olduğunu bildirir?

- A)
- B)
- C)
- D)

49. Aksine bir durum yoksa saatte 100 kilometre hızla seyreden sürücü, önündeki araca en fazla kaç metre yaklaşabilir?

- A) 20
- B) 30
- C) 40
- D) 50

50. Aşağıdakilerden hangisi trafiğin düzenlenmesinde diğerlerine göre önceliğe sahiptir?

- A) Yer işaretleri
- B) Trafik ışıkları
- C) Trafik görevlisi
- D) Trafik levhaları

TRAFİK VE ÇEVRE BİLGİSİ TESTİ BİTTİ.  
MOTOR VE ARAÇ TEKNİĞİ BİLGİSİ TESTİNE GEÇİNİZ.

1. Motor çalışmazken akünün görevi aşağıdakilerden hangisidir?

- A) Yağlamayı sağlamak
- B) Diferansiyeli çalıştırmak
- C) Vites kutusunu çalıştırmak
- D) Aydınlatma sistemi ve özel alıcıları çalıştırmak

2. Akünün araç üzerinden sökülmesi sırasında önce hangi kabloyu sökmek gerekir?

- A) Şarj kablosunu
- B) Marş kablosunu
- C) Artı kutup kablosunu
- D) Eksi kutup kablosunu




3. Aşağıdakilerden hangisi silindire giren havayı temizler?

- A) Hava filtresi
- B) Benzin filtresi
- C) Yağ filtresi
- D) Su filtresi

4. Aşağıdakilerden hangisi yakıt tüketiminin artmasında sürücüden kaynaklanan kusurdur?

- A) Frenlerin ayarsız olması
- B) Rölanti ayarının bozulması
- C) Ön düzen ayarlarının bozuk olması
- D) Aracın hızına uygun olmayan viteste gidilmesi

5. Dizel motorlu aracın gösterge panelinde aşağıdakilerden hangisinin yanıyor olması, ısıtma bujilerinin çalışmakta olduğunu bildirir?

- A) 
- B) 
- C) 
- D) 

6. Aşağıdakilerden hangisi, depodaki mazotu basınçlı olarak yakıt enjeksiyon pompasına gönderir?

- A) Dinamo
- B) Debriyaj
- C) Besleme pompası
- D) Devridaim pompası

7. Aşağıdakilerden hangisi yakıtın temizlenmesini sağlar?

- A) Enjektör
- B) Yakıt filtresi
- C) Besleme pompası
- D) Enjeksiyon pompası

8. Enjeksiyon pompasıyla, enjektörler arasındaki borulara ne ad verilir?

- A) Fren boruları
- B) Radyatör boruları
- C) Alçak basınç boruları
- D) Yüksek basınç boruları

9. Dizel motorlarda yakıtın ateşlenmesi nasıl olur?

- A) Sıkıştırılan havanın sıcaklığı ile
- B) Dışarıdan ısıtılarak
- C) Elektrik motoru ile
- D) Buji kıvılcımı ile

10. Vites değiştirirken aşağıdaki hareketlerden hangisi yapılır?

- A) Frene basılır.
- B) El freni çekilir.
- C) Gaz pedalına basılır.
- D) Debriyaj pedalına basılır.

11. Aşağıdakilerden hangisi aracın hızını ve torkunu ayarlar?

- A) Aks
- B) Süspansiyon
- C) Vites kutusu
- D) Helezon yaylar

12. Aşağıdakilerden hangisi virajlarda çekici tekerleklerin farklı hızlarda dönmesini sağlar?

- A) Direksiyon
- B) Diferansiyel
- C) Amortisör
- D) Ön düzen

13. Aşağıdakilerden hangisi frenleme esnasında fren pedalının titremesine neden olur?

- A) Balataların ıslanması
- B) Motor yağının kirlenmesi
- C) Araç lastiklerinin yeni olması
- D) Disk veya kampana yüzeylerinin bozuk olması

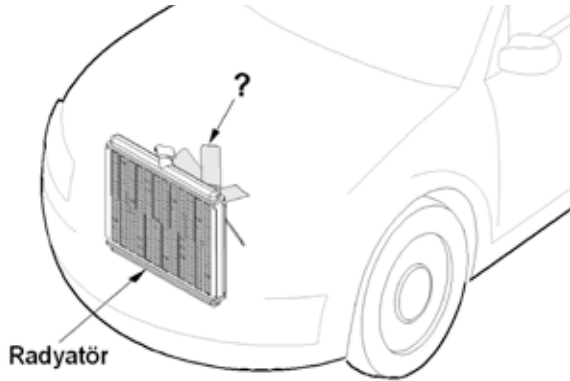
14. Motor çok sıcak iken radyatöre soğuk su konulması aşağıdakilerden hangisine sebep olur?

- A) Motorun stop etmesine
- B) Motor gücünün artmasına
- C) Motor bloğunun çatlamasına
- D) Motor sıcaklığının artmasına

15. Aşağıdakilerden hangisi, motorun soğutma sisteminde yapılması gereken kontrollerden birisidir?

- A) Su kaçağı kontrolü
- B) Egzoz kaçağı kontrolü
- C) Elektrolit kaçağı kontrolü
- D) Hidrolik yağ kaçağı kontrolü

16. Şekilde soru işareti (?) ile gösterilen, motor soğutma sistemi parçasının adı nedir?




- A) Kayış
- B) Soğutma fanı
- C) Termostat
- D) Alternatör

17. Motor bloğundaki su kanallarında paslanma ve kireçlenmenin oluşması aşağıdakilerden hangisine sebep olur?

- A) Motorun yağ yakmasına
- B) Motorun çalışmamasına
- C) Motorun fazla ısınmasına
- D) Motor gücünün artmasına

18. Aracın gösterge panelinde bulunan şekildeki gösterge, sürücüyü neyi bildirir?

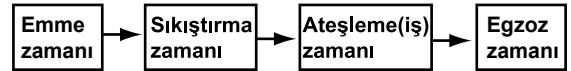


- A) Soğutma suyu sıcaklığını
- B) Depodaki yakıt miktarını
- C) Karterdeki yağ miktarını
- D) Radyatördeki su seviyesini

19. Aşağıdakilerden hangisi, kaza anında ölüm ve yaralanmaları en aza indirmek amacıyla geliştirilen sistemlerdendir?

- A) Polen filtresi
- B) Park sensörü
- C) Açılabilir tavan
- D) Aktif gergili emniyet kemeri

20. Dört zamanlı dizel motorlarda, zamanların oluşum sırası aşağıdaki gibidir.



Buna göre, hangi zamanda sadece hava, pistonla sıkıştırılır?

- A) Emme zamanı
- B) Sıkıştırma zamanı
- C) Ateşleme (iş) zamanı
- D) Egzoz zamanı

21. Motor çalıştığı sürece aracın elektrik ihtiyacını karşılayan sistem aşağıdakilerden hangisidir?

- A) Marş sistemi
- B) Şarj sistemi
- C) Yakıt sistemi
- D) Soğutma sistemi

22. Motor çalışır durumda iken aracın gösterge panelinde akü şarj ikaz ışığı yanıyor muhtemel arıza aşağıdakilerden hangisinde olabilir?

- A) Alternatörde B) Marş motorunda  
C) Far ampullerinde D) Fan motorunda

23. Kara yollarında kullanılabilen motorlu, motorsuz ve özel amaçlı taşıtlar ile iş makineleri ve lastik tekerlekli traktörlerin genel adına ne denir?

- A) Makine B) Motor  
C) Araç D) Vites kutusu

24. Egzoz susturucusu, yanmış gazların gürültüsünü azaltmada görev yapar.

Buna göre araçlardaki egzoz susturucusu çıkarılırsa ne olması beklenir?

- A) Gürültü kirliliğinin artması  
B) Motorun ısınarak stop etmesi  
C) Gürültü kirliliğinin en aza inmesi  
D) Egzozdan siyah renkte duman çıkması

25. Motorda aşağıdaki ayarlardan hangisi yapılır?

- A) Rot B) Far  
C) Supap D) Rotil

26. Çarpışma durumunda otomatik olarak şişerek sürücü ve yolcuların ölüm ve yaralanmalarını azaltan pasif güvenlik sisteminin adı nedir?

- A) ABS fren  
B) Hafızalı koltuk  
C) Otomatik hız kontrol  
D) Hava yastığı (airbag)


27. Aracın farlarında arıza giderme veya far değişimi yapıldıktan sonra hangi ayarın yapılması gerekir?

- A) Rot ayarı B) Far ayarı  
C) Supap ayarı D) Rölanti ayarı

28. Araca bağlanan römorkta, aşağıdaki ikaz sistemlerinin hangisi çalışır durumda olacaktır?

- A) Sinyal B) Korna  
C) Far D) Hararet

29. Aracın gösterge panelinde bulunan şekildeki gösterge sürücüyü neyi bildirir?



- A) Aracın hızını  
B) Yakıt miktarını  
C) Motor sıcaklığını  
D) Motor devir sayısını

30. I- Akü kontrolü  
II- Lastik kontrolü  
III- Antifriz kontrolü

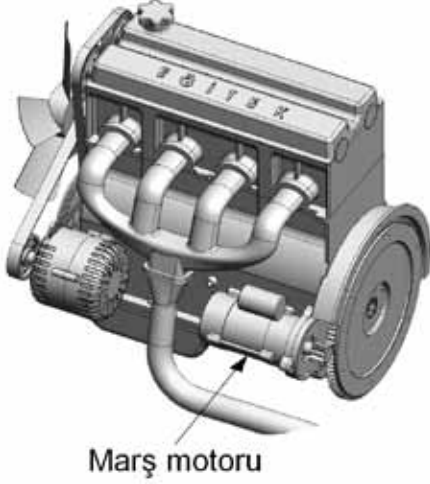
Yukarıdakilerden hangileri aracın kış koşullarına hazırlanmasında alınması gereken önlemlerdendir?

- A) Yalnız I B) I - II  
C) II - III D) I - II - III

31. Marş motoru aşağıdaki parçalardan hangisine hareket iletir?

- A) Volan dişlisine B) Diferansiyele  
C) Amortisöre D) Fan motoruna

32. Şekilde gösterilen marş motorunun görevi nedir?



- A) Aküyü şarj etmek  
B) Araca ilk hareketi vermek  
C) Motora ilk hareketi vermek  
D) Motoru çalışma sıcaklığında tutmak
33. Motoru çalıştırmak için uzun süre ve sıkça marş yapılması aşağıdakilerden hangisinin ömrünü kısaltır?
- A) Diferansiyelin  
B) Far ampulünün  
C) Marş motorunun  
D) Silecek motorunun
34. Aşağıdakilerden hangisi balanssız tekerleğin araç üzerindeki etkilerinden biridir?
- A) Motorun hararet yapması  
B) Motor yağına su karışması  
C) Manifoldlarda kaçakların oluşması  
D) Tekerlek yataklarının kısa sürede aşınması
35. Aşağıdakilerden hangisi aracı istenilen yöne sevk eder?
- A) Amortisör  
B) Direksiyon simidi  
C) Hava yastığı  
D) Marş motoru





36. Kullanma kılavuzuna göre, belli kilometre sonunda araçta aşağıdakilerden hangisinin değiştirilmesi önerilir?

- A) Motor yağının  
B) Farların  
C) Jantların  
D) Aynaların

37. Yağ çubuğunun görevi aşağıdakilerden hangisidir?

- A) Antifriz seviyesini gösterir.  
B) Hidrolik seviyesini gösterir.  
C) Motor yağı seviyesini gösterir.  
D) Soğutma suyu seviyesini gösterir.

38. Seyir hâlindeki aracın gösterge panelinde aşağıdaki ikaz ışıklarından hangisinin yanıyor olması, trafik kurallarına uymak şartıyla derhâl durulması gerektiğini belirtir?

- A)  B)   
C)  D) 

39. Motorda yağ seviyesi normalin çok altında iken motor çalıştırılırsa ne olur?

- A) Motor çok soğur.  
B) Motor suyuna yağ karışır.  
C) Motor yakıtına yağ karışır.  
D) Motor aşırı ısınarak zarar görür.

40. Motordaki aşınmaları hangi sistem azaltır?

- A) Ateşleme sistemi  
B) Marş sistemi  
C) Yağlama sistemi  
D) Şarj sistemi

TEST BİTTİ.  
CEVAPLARINIZI KONTROL EDİNİZ.

### SINAV SIRASINDA UYULACAK KURALLAR

1. Sınavın başladığı andan itibaren, salon görevlilerinin tüm uyarılarına uymak zorundasınız.
2. Sınav başladıktan sonra görevlilerle konuşmanız ve soru sormanız yasaktır.
3. **Sınav sırasında kopya çeken, çekmeye teşebbüs eden, kopya veren ya da kopya çekilmesine yardım eden, kurallara ve uyarılara uymayan adayların sınavları geçersiz sayılacaktır. Ayrıca bu kişiler ilk 45 dakika sonunda salondan çıkarılacaktır.**
4. Sınav süresince, sınav giriş belgesi ile birlikte nüfus cüzdanı, ehliyet veya pasaport kimlik belgelerinden birini masanızın üzerinde bulundurunuz.
5. Sınav başladıktan sonra adayların birbirleriyle konuşmaları, kalem, silgi vb. şeyleri istemeleri yasaktır.
6. Sınav sırasında sigara, çay vb. içilmez.
7. Sınavın başladığı belirtilmeden soru kitapçıkları açılmaz ve cevaplandırma yapılamaz.
8. **Sınav sonrası sınav giriş belgesini, soru kitapçığını ve cevap kâğıdını mutlaka salon görevlilerine teslim ediniz. Sınav evraklarını teslim etmeyen, soru kitapçıklarının sayfalarından bir kısmını eksik teslim edenlerin sınavları geçersiz sayılacak, ayrıca haklarında yasal işlem yapılacaktır.**

Soracağınız bir şey var mı? Varsa, şimdi sorunuz; sınav başladıktan sonra sorularınıza cevap verilmeyecektir. Hazır mısınız? Sınav, okulun bütün salonlarında aynı anda başlayacağı için başlama zilini beraberce bekleyelim. Hepinize başarılar dileriz.

**(Salon başkanı başlama ve bitiş saatini tahtaya yazacaktır.)**

**Bu kitapçığın her hakkı saklıdır. Hangi amaçla olursa olsun, kitapçığın tamamının veya bir kısmının Millî Eğitim Bakanlığı Eğitim Teknolojileri Genel Müdürlüğü'nün yazılı izni olmadan kopya edilmesi, fotoğraflarının çekilmesi, bilgisayar ortamına alınması, herhangi bir yolla çoğaltılması, yayımlanması veya başka bir amaçla kullanılması yasaktır. Bu yasağa uymayanlar, doğabilecek cezai sorumluluğu ve kitapçığın hazırlanmasındaki mali külfeti peşinen kabullenmiş sayılır.**

**BAŞLAYINIZ DENİLMEDEN SORU KİTAPÇIĞINI AÇMAYINIZ.**

İLK YARDIM BİLGİSİ	TRAFİK VE ÇEVRE BİLGİSİ	MOTOR VE ARAÇ TEKNİĞİ BİLGİSİ
1. A	1. D	1. D
2. B	2. C	2. D
3. A	3. D	3. A
4. B	4. A	4. D
5. A	5. B	5. B
6. C	6. C	6. C
7. A	7. D	7. B
8. D	8. C	8. D
9. C	9. D	9. A
10. D	10. B	10. D
11. B	11. D	11. C
12. D	12. A	12. B
13. B	13. C	13. D
14. D	14. A	14. C
15. A	15. A	15. A
16. C	16. C	16. B
17. B	17. B	17. C
18. B	18. D	18. A
19. A	19. D	19. D
20. C	20. B	20. B
21. B	21. C	21. B
22. D	22. D	22. A
23. C	23. C	23. C
24. D	24. B	24. A
25. A	25. A	25. C
26. D	26. B	26. D
27. B	27. D	27. B
28. C	28. B	28. A
29. D	29. A	29. D
30. C	30. B	30. D
	31. C	31. A
	32. C	32. C
	33. B	33. C
	34. A	34. D
	35. C	35. B
	36. B	36. A
	37. B	37. C
	38. A	38. B
	39. D	39. D
	40. A	40. C
	41. B	
	42. C	
	43. B	
	44. A	
	45. A	
	46. D	
	47. D	
	48. A	
	49. D	
	50. C	