

SERTİFİKA TÜRÜ

C-D-E

200820111100

4. GRUP

T.C.
MİLLÎ EĞİTİM BAKANLIĞI
EĞİTİM TEKNOLOJİLERİ GENEL MÜDÜRLÜĞÜ
Sınav Hizmetleri Daire Başkanlığı

KİTAPÇIK TÜRÜ

N

MOTORLU TAŞIT SÜRÜCÜ ADAYLARI SINAVI SORU KİTAPÇIĞI

Adayın Adı ve Soyadı :
Aday Numarası (T.C. Kimlik No) :

DERSLER	SORU SAYISI	TOPLAM SORU	TOPLAM SÜRE (DAKİKA)
İLK YARDIM BİLGİSİ	30	120	150
TRAFİK VE ÇEVRE BİLGİSİ	50		
MOTOR VE ARAÇ TEKNİĞİ BİLGİSİ	40		

ADAYLARIN DİKKATİNE!

1. Soru kitapçığının ön ve arka yüzündeki açıklamaları okuyunuz ve bu açıklamalara uyunuz.
2. Sınav saat **11.00**'de başlayıp **13.30**'da biter. Sınav başladıktan sonra ilk **60** dakika dolmadan dışarı çıkmayınız.
3. Sınav sırasında sözlük, hesap cetveli veya makinesi, çağrı cihazı, cep telefonu, telsiz, radyo gibi elektronik iletişim araçlarını yanınızda bulundurmuyunuz. Bu araçları kullanmanız ve kopya çekmeye teşebbüs etmeniz hâlinde sınavınız geçersiz sayılacaktır.
4. **Başvuru şartlarını taşımadığınız hâlde sınava girmeniz, kopya çekmeniz, cevap kâğıdınızdaki fotoğraf ve bilgiler ile geçerli kimlik belgenizdeki (nüfus cüzdanı, pasaport veya sürücü belgenizdeki) bilgilerde uyumsuzluk olması, başka adayın sınav evrakını kullanmanız, geçerli kimlik belgenizi ve sınav giriş belgenizi ibraz edemediğiniz durumlarda sınavınız geçersiz sayılacaktır.**
5. Elektronik iletişim araçlarıyla kopya çekmeniz, yerinize başka birinin sınava girdiğinin belirlenmesi veya organize olarak kopya çekme eylemine karıştığınızın tespit edilmesi durumunda bir yıl süreyle sınava alınmayacaksınız.

CEVAP KÂĞIDI VE SORU KİTAPÇIĞI İLE İLGİLİ AÇIKLAMALAR

1. Kendi adınıza düzenlenmiş cevap kâğıdı ve sertifika türünüze uygun soru kitapçığını almamış iseniz bunu salon görevlilerine bildirmekle yükümlüsünüz. Bu durumu salon görevlilerine bildirmediyiniz ya da geç bildirdiyinizde tüm sorumluluk size ait olacaktır.
2. Cevap kâğıdınızdaki bilgilerin doğruluğunu kontrol ediniz ve cevap kâğıdınızı imzalayınız.
3. Cevap kâğıdı üzerine yazacağınız yazı ve yapacağınız işaretlemelerde kurşun kalemde başka kalem kullanmayınız.
4. Soru kitapçıklarını kontrol ederek, baskı hatası olan kitapçığın değiştirilmesi için salon görevlilerine başvurunuz.
5. Soru kitapçığının ön yüzündeki ilgili yerlere ad, soyad ve T.C. kimlik numaranızı yazınız.
6. Her sorunun dört seçeneği vardır. Dört seçenekten sadece biri doğrudur. Doğru cevap olarak kabul ettiğiniz seçeneği, cevap kâğıdının ilgili sütununa aynı soru numarasını dikkate alarak cevap kâğıdındaki örnekte olduğu gibi yuvarlağın dışına taşırmadan kodlayınız. **Soru kitapçığı üzerinde yapılan cevaplandırmalar dikkate alınmayacaktır.**
7. Değiştirmek istediğiniz bir cevabı, yumuşak silgiyle cevap kâğıdını örselemeden temizce siliniz ve yeni cevabınızı kodlamayı unutmayınız.
8. Yanlış cevaplarınız dikkate alınmadan sadece doğru cevaplarınız üzerinden puanlama yapılacaktır.
9. Her ders kendi içerisinde **100** puan üzerinden değerlendirilecektir. Başarılı sayılabilmemiz için her dersten ayrı ayrı en az **70** puan almanız gerekir.
10. Soruları ve sorulara verdiğiniz cevapları, yanınızda götürmek amacıyla kaydetmeyiniz; hiçbir şekilde dışarı çıkarmayınız.
11. **Sınav bitiminde, sınav giriş belgesi, soru kitapçığı ve cevap kâğıdını salon görevlilerine teslim ediniz.**

Arka kapaktaki açıklamalara geçiniz.

1. İlk yardım yapan kişi, yaralının omuzuna hafifçe dokunarak "iyi misiniz?" diye sorar.

Bu davranış ile yaralının hangi durumu kontrol edilir?

- A) Solunumu B) Ağız içi
C) Bilinci D) Göğüs hareketi

2. Aşağıdakilerden hangisi kesik şeklindeki yaralanmalarda yapılan ilk yardım uygulamalarındandır?

- A) Kesilen bölgenin kalp seviyesinin altında kalmasını sağlamak
B) Yara kenarlarını birbirine yaklaştırdıktan sonra sarmak
C) Yara üzerine tentürdiyotlu pamukla sarıp sıcak tutmak
D) Yara üzerine alkol döküp açık bırakmak

3. Boyun, sırt ve bel omurları kırıklarında, yaralının uygun şekilde tespiti yapılmadan nakli gerçekleştirilirse aşağıdakilerden hangisinin olması beklenir?

- A) Vücudun bir bölgesinde felç oluşması
B) Nabız atışlarının sürekli hızlanması
C) Bulantı ve kusmanın olması
D) Vücut sıcaklığının artması

4. Kaza yerinden tıbbi yardım istenirken aşağıdakilerden hangisinin bildirilmesine gerek yoktur?

- A) Kaza zamanının
B) Açık ve net adresin
C) Yaralıların kimliklerinin
D) Yaralıların sayısı ve durumlarının

5. Egzoz gazı zehirlenmesi hangi yolla olur?

- A) Sindirim yolu ile
B) Dolaşım yolu ile
C) Boşaltım yolu ile
D) Solunum yolu ile

6. Köprücük kemiği kırıklarında yaralının hangi bölgesi tespit edilir?

- A) Kalça B) Omuz
C) Göğüs D) El

7. Aşağıdakilerden hangisi donmaya maruz kalan kişiye uygulanan ilk yardım uygulamalarındandır?

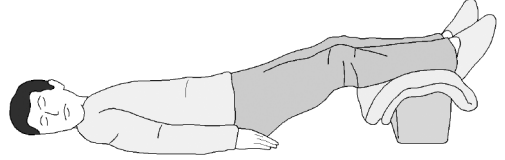
- A) Tuzlu soğuk ayran içirmek
B) Soğuk ortamdaki uzaklaştırmak
C) Hemen uyutulmasını sağlamak
D) Vücuda sıcak uygulama ve hızlı masaj yapmak

8. Aşağıdakilerden hangisi, yan yatış pozisyonuna alınarak taşınabilir?

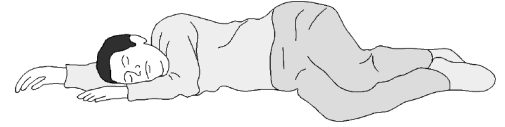
- A) Göğüs kemiğinde kırık olanlar
B) Kalça kemiğinde kırık olanlar
C) Omurilik zedelenmesi olanlar
D) Besin zehirlenmesi olanlar

9. Aşağıdakilerden hangisi şok pozisyonudur?

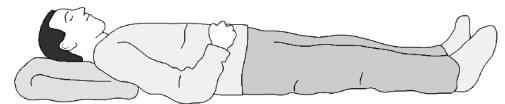
A)



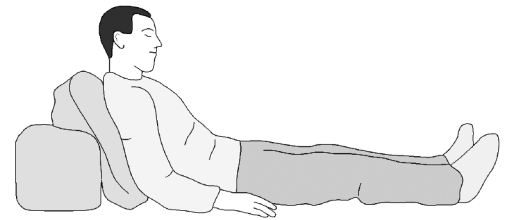
B)



C)



D)



10. Burkulan eklem bölgesinin şişmesini önlemek için yapılması gereken ilk yardım uygulaması aşağıdakilerden hangisidir?

- A) Kişinin yan yatış pozisyonuna alınması
B) Kalp seviyesinden aşağıda ve sıcak tutulması
C) Kalp seviyesinden yukarıda ve soğuk tutulması
D) Ağrıya rağmen eklem sürekli hareket ettirilmesi

11. İşitme yetersizliği olan sürücü adayı, hangi durumda sürücü belgesi alabilir?

- A) Belli bir hızdan fazla seyretmeme şartı ile
- B) Sadece şehir içinde araba kullanma şartı ile
- C) Araç kullanırken yanında birisini bulundurma şartı ile
- D) İşitme cihazı ile belli bir duyma yeterliliğine ulaşma şartı ile

12. • Göz bebeklerinde büyüklük farkı
• Burundan kan gelmesi
• Geçici hafıza kaybı

Yukarıdaki belirtiler, hangi bölge yaralanmalarında daha çok görülür?

- A) Göğüs
- B) Baş
- C) Karın
- D) Omurga

13. Kalbi çalıştığı hâlde solunumu durmuş olanlara yapılacak suni solunuma ne kadar devam edilir?

- A) 10 dakika
- B) 15 dakika
- C) Kalbi daha hızlı çalışana kadar
- D) Hasta kendi kendine soluyuncaya kadar

14. Aşağıdakilerden hangisi trafik kazalarının en önemli sebebidir?

- A) Sürücülerin kurallara uymaması
- B) Uyarı işaretlerinin yetersiz olması
- C) Trafik görevlilerinin yetersiz olması
- D) Yolların bakımsız olması

15. Kaza geçirmiş araç içindeki yaralıları, herhangi bir yangın ihtimaline karşı korumak için yapılması gereken ilk işlem aşağıdakilerden hangisidir?

- A) Aracın çevresindeki yanıcı maddelerin uzaklaştırılması
- B) Araç çalışır vaziyette iken yaralıların oradan uzaklaştırılması
- C) Aracın kontağının kapatılarak yaralıların oradan uzaklaştırılması
- D) İtfaiyeye haber verilip, gelmesinin beklenmesi

16. Kaza yerine ulaşan ilk yardımcının öncelikle yapması gereken nedir?

- A) Yaralıları belirlemek
- B) Yaralıları araçtan çıkarmak
- C) Kazayı yetkililere haber vermek
- D) Kendinin ve yaralıların güvenliğini sağlamak

17. Aşağıdakilerden hangisinin kaza anında kırılması hâlinde, akciğerlere batarak zarar verme ihtimali daha fazladır?

- A) Kaburga kemiği
- B) Kaval kemiği
- C) Uyluk kemiği
- D) Pazu kemiği

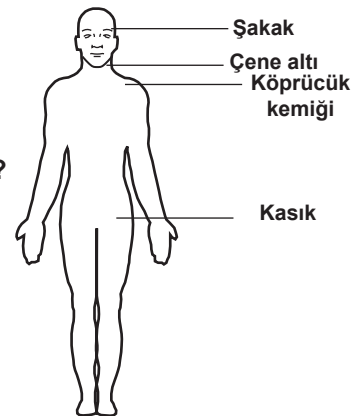
18. Aşağıdakilerden hangisi elektrik çarpmasının vücuttaki etkilerinden biri değildir?

- A) İshal veya kabızlık oluşması
- B) Solunumun durması
- C) Akımın girip çıktığı yerde yanık oluşması
- D) Kalbin durması veya atımının düzensiz olması

19. Vücudumuzdaki yapı birimlerinin küçükten büyüğe doğru sıralanışı aşağıdakilerden hangisindeki gibi olur?

- A) Sistem → Doku → Organ → Hücre
- B) Organ → Hücre → Doku → Sistem
- C) Hücre → Doku → Organ → Sistem
- D) Hücre → Organ → Doku → Sistem

20. Omuz veya koldaki kanamalarda, şekilde belirtilen hangi kısma basınç uygulanmalıdır?



- A) Köprücük kemiğinin iç kısmına
- B) Kasığın iç kısmına
- C) Şakak bölgesine
- D) Çene altına

21. Aşağıdakilerden hangisi sürücülerde olması gereken davranışlardandır?

- A) Kendini üstün görmek
- B) Kendi kendine kurallar koymak
- C) Paylaşmayı bilmek ve saygılı olmak
- D) Saygıyı öncelikle başkalarından beklemek

22. Hangi durumdaki kazazede kesinlikle sedye ile taşınmalıdır?

- A) Omurga kırığı olan
- B) Kaburga kırığı olan
- C) Kolunda yara ve kırık olan
- D) Birinci derece yanığı olan

23. Ağız-burun çevresinde kanama olan yaralılarda solunum durması söz konusu ise, aşağıdaki suni solunum yöntemlerinden hangileri uygulanabilir?

- I- Holger-Nielsen (Sırttan bastırma)
- II- Silvester (Göğüsten bastırma)
- III- Ağızdan ağıza

- A) Yalnız I
- B) I - II
- C) II - III
- D) I - II - III

24. Hangi durumdaki kazazedeye, sırtüstü yatış pozisyonu verilerek göğüs kemiği 4-5 cm aşağıya inecek şekilde basınç uygulanır?

- A) Solunumu düzensiz olan
- B) Kalbi düzensiz çalışan
- C) Solunum sayısı azalan
- D) Kalbi duran

25. Aşağıdakilerden hangisinin ilk yardım çantasında bulundurulması zorunludur?

- A) Kâğıt mendil
- B) Gazlı bez
- C) Serum
- D) Oksijen maskesi

26. Aşağıdakilerden hangisi bilinç kaybı olan bir hastanın solunum yolunu tıkayarak boğulmasına sebep olabilir?

- A) Çenenin kasılması
- B) Vücudun kasılması
- C) Dilin geriye kaçması
- D) Baş-çene pozisyonu verilmesi

27. Araçlarda emniyet kemeri kullanılmasının yararı aşağıdakilerden hangisidir?

- A) Otomobilin daha iyi sürülmesini sağlar.
- B) Kazalarda ölüm ve yaralanma riskinin azalmasını sağlar.
- C) Sürücünün araç içinde daha rahat hareket etmesini sağlar.
- D) Araç kullanırken sürücünün direksiyon hakimiyetini sağlar.

28. Kendiliğinden meydana gelen burun kanamasında, hastaya aşağıdaki pozisyonlardan hangisi verilmelidir?

- A) Sırtüstü yatış pozisyonu
- B) Yüzüstü yatış pozisyonu
- C) Baş-çene pozisyonu
- D) Oturuş pozisyonu

29. Kanama olan bölgeye turnike uygularken aşağıdakilerden hangisine dikkat edilmelidir?

- A) Vücutta yassı kemiklerin olduğu bölge olmasına
- B) Vücutta atardamarların geçtiği tek kemikli bölge olmasına
- C) Kemiklerin birleşme noktası olan eklem bölgesi olmasına
- D) Tel ve benzeri sağlam malzeme kullanılmasına

30. Yaralıyı araçtan çıkarırken aşağıdakilerden hangisine dikkat edilmelidir?

- A) Kollarının baş hizasında durmasına
- B) Baş tarafından çekilerek çıkarılmasına
- C) Ayak tarafından çekilerek çıkarılmasına
- D) Baş-boyun-gövde hizasının bozulmamasına

İLK YARDIM BİLGİSİ TESTİ BİTTİ.
TRAFİK VE ÇEVRE BİLGİSİ TESTİNE GEÇİNİZ.

1. Aşağıdakilerden hangisinde araç sürücüsünün emniyet kemeri kullanması zorunludur?

- A) Motosiklet
- B) İş makinesi
- C) Hususi otomobil
- D) Lastik tekerlekli traktör

2. I- Beyaz baston taşıyan
II- Kollarında üç yuvarlaklı sarı bant bulunan
III- Bir yayanın veya köpeğin yardımı ile yürüyen

Yukarıda verilen gözleri görmeyen kişilerden hangilerinin taşıt yolu üzerinde bulunması hâlinde, araç sürücülerinin yavaşlamaları, gerektiğinde durmaları ve yardımcı olmaları gerekir?

- A) I - II
- B) I - III
- C) II - III
- D) I - II - III

3. Ülkemizde trafik kazalarındaki kusur oranının (%) yıllara göre dağılımı tablodaki gibidir.

Yıllar	Sürücü (%)	Yaya (%)	Araç (%)	Yol (%)
2006	98,10	1,28	0,32	0,17
2007	98,19	1,51	0,13	0,09
2008	87,47	11,80	0,26	0,17
2009	88,11	11,06	0,24	0,23

Bu verilerden hangi sonuca kesinlikle ulaşılır?

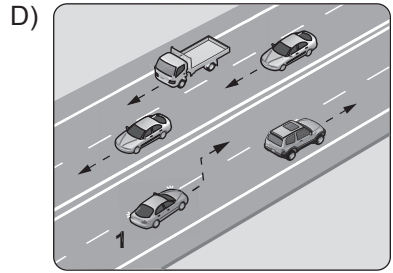
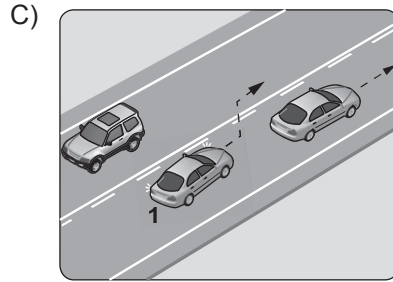
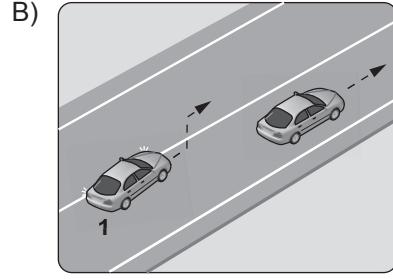
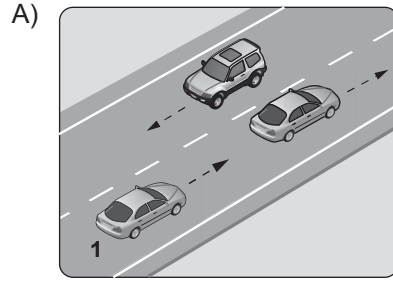
- A) Kazaların çoğu insan kaynaklıdır.
- B) Kazalarda insan kusurları araç ve yol kusurlarından daha azdır.
- C) Toplu taşıma yapılması ülke ekonomisini olumlu yönde etkiler.
- D) Kara yolu ulaşım sistemi, diğer ulaşım sistemlerinden daha çok kullanılmaktadır.

4. Trafik kazasına karışan kişilerin tümü, yetkililerin gelmesini gerekli görmez ve anlaşılarsa, durumu aralarında yazılı olarak tespit etmek suretiyle olay yerinden ayrılabilirler.

Yukarıdaki ifade hangi tür kazalarda geçerlidir?

- A) Ölümlü kazalarda
- B) Yaralanmalı kazalarda
- C) Maddi hasarlı kazalarda
- D) Maddi hasarlı ve yaralanmalı kazalarda

5. Aşağıdakilerden hangisinde 1 numaralı taşıt sürücüsünün yaptığı asli (esas) kusurlu hâllerden sayılır?



6. B sınıfı sürücü belgesi olan sürücü, aşağıdakilerden hangisini sürebilir?

- A) Otobüs
- B) Kamyon
- C) Motosiklet
- D) Lastik tekerlekli traktör

7. Trafik kazasına karışan sürücülerin önce-likle aşağıdakilerden hangisini yapmaları gerekir?

- A) Kaza tespit tutanağı düzenlemeleri
- B) İlk yardım önlemlerini almaları
- C) Yolu trafiğe kapatmaları
- D) Yolu trafiğe açmaları

8. Aracının rengini değiştiren kişi, bu durumu kaç gün içinde ilgili kuruluşa bildirmek zorundadır?

- A) 30
- B) 40
- C) 50
- D) 60

9. Araçların niteliklerini tespit ve kontrol edebilecek cihazlarla personeli bulunan ve teknik kontrolü yapılan yerlere ne ad verilir?

- A) Garaj
- B) Terminal
- C) Servis istasyonu
- D) Muayene istasyonu

10. Aksine bir işaret yoksa resimdeki araç için "yerleşim yeri içinde" azami hız sınırı saatte kaç kilometredir?

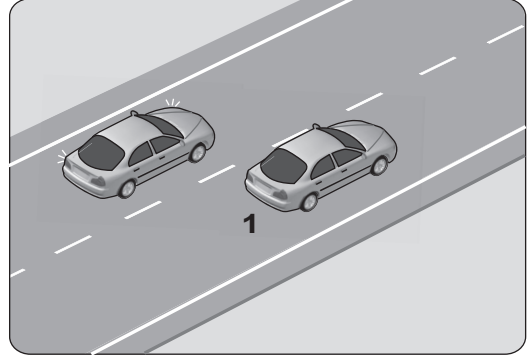


- A) 40
- B) 50
- C) 60
- D) 70

11. Zorunlu hâller dışında şehirler arası kara yolunu kullanan motorlu araçların asgari (en az) hız sınırı saatte kaç kilometredir?

- A) 5
- B) 10
- C) 15
- D) 20

12. Şekildeki iki yönlü yolda, 1 numaralı geçilen araç sürücüsünün aşağıdakilerden hangisini yapması doğrudur?



- A) Hızını artırması
- B) Kesik çizgi tarafına yaklaşması
- C) Uzun hüzmeli farlarını art arda yakması
- D) Gidiş yönüne göre sağa doğru yaklaşması

13. Konvoy hâlinde seyreden araçların arasındaki mesafe en az ne kadar olmalıdır?

- A) Duruş mesafesi kadar
- B) İntikal mesafesi kadar
- C) Takip mesafesi kadar
- D) Fren mesafesi kadar

14. Aksine bir işaret yoksa, eğimsiz iki yönlü dar yolda, otomobil ile kamyonun karşılaşması hâlinde, hangisi diğerine yol vermelidir?

- A) Kamyon, otomobile
- B) Otomobil, kamyonu
- C) Trafik yoğunluğu fazla olan yöndeki taşıt, diğerine
- D) Trafik yoğunluğu az olan yöndeki taşıt, diğerine

15. Geçiş üstünlüğüne sahip araç sürücüsü bu hakkı kullanırken aşağıdakilerden hangisine dikkat etmek zorundadır?

- A) Hız sınırlamasına
- B) Trafik yasaklarına
- C) Çevreyi rahatsız etmemeye
- D) Can ve mal güvenliğini tehlikeye sokmamaya

16. Aşağıdakilerden hangisi durmaya örnektir?

- A) Park etmek
- B) Kırmızı ışıkta beklemek
- C) Yük boşaltmak için beklemek
- D) Yolcu indirmek ve bindirmek için beklemek

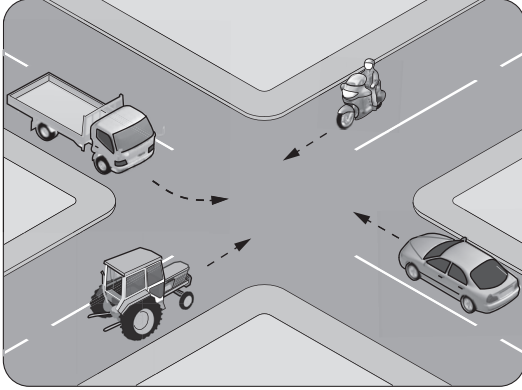
17. Geceleyin öndeki aracı yakından takip ederken hangi ışıkları yakmak zorunludur?

- A) Yakını gösteren ışıkları
- B) Uzağı gösteren ışıkları
- C) Park ışıklarını
- D) Sis ışıklarını

18. Çeken ve çekilen araçlarla ilgili olarak aşağıdakilerden hangisinin yapılması yasaktır?

- A) Kamyon ile kamyoneti çekmek
- B) Çeken ve çekilen araçta yük veya yolcu taşımak
- C) Freni bozuk aracı çeki demiriyle çekmek
- D) Kurtarıcı olmayan araçlarla çekmek

19. Şekildeki karşılaşmada hangi araç öncelikli geçiş hakkını kullanmalıdır?

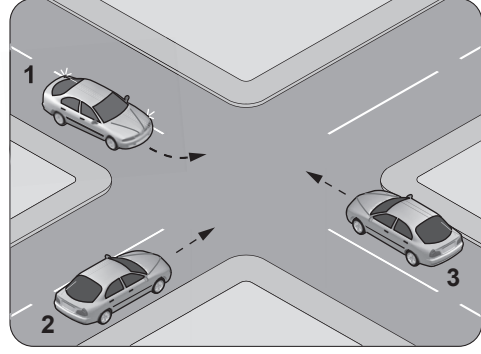


- A) Kamyonet
- B) Motosiklet
- C) Traktör
- D) Otomobil

20. Manevra yapacak sürücü aşağıdakilerden hangisini yapmalıdır?

- A) Ön, arka ve yanlardaki trafiği kontrol etmelidir.
- B) İşaret verdiği anda manevraya başlamalıdır.
- C) Manevraya başladıktan sonra işaret vermelidir.
- D) Manevra bitmeden önce işaret vermeyi sona erdirmelidir.

21. Şekildeki araçların geçiş hakkı sıralaması nasıl olmalıdır?

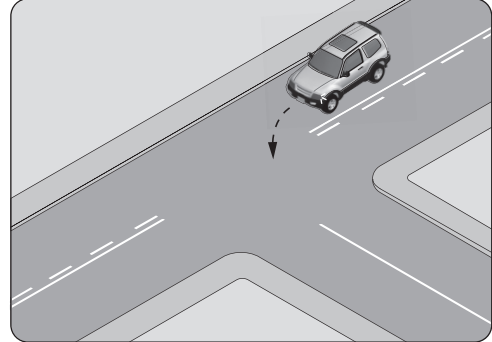


- A) 1 - 2 - 3
- B) 2 - 3 - 1
- C) 3 - 1 - 2
- D) 3 - 2 - 1

22. Öndeki aracı geçmeye başlamadan önce sürücünün ilk yapması gereken nedir?

- A) Geçiş yapacağı yolun güvenli olduğundan emin olmak
- B) Öndeki aracın sağa yaklaşmasını beklemek
- C) Selektör yapmak
- D) Hızını arttırmak

23.



Şekildeki gibi sola dönüş yapacak olan sürücü aşağıdakilerden hangilerini yapmalıdır?

- I- Hızını azaltmalı
- II- Sola dönüş lambasını yakmalı
- III- Geniş bir kavis ile dönmeli

- A) I - II
- B) I - III
- C) II - III
- D) I - II - III

4. GRUP

TRAFİK ve ÇEVRE BİLGİSİ

N

24. Şekildeki trafik işareti neyi bildirir?



- A) Kaygan yola yaklaşıldığını
- B) Sola dönmenin yasaklandığını
- C) Sola tehlikeli viraja yaklaşıldığını
- D) Sol taraftan tek yönlü yola girileceğini

25. Şekildeki trafik işareti neyi bildirir?



- A) Tünel yaklaşımını
- B) Sola mecburi yönü
- C) Sola tehlikeli devamlı virajı
- D) Dönel kavşak yaklaşımını

26. Şekildeki trafik işaretini gören sürücü aşağıdakilerden hangilerini yapmalıdır?



- I- Hızını artırmalıdır.
- II- Hızını azaltmalıdır.
- III- Öndeki araçları geçmekten kaçınmalıdır.

- A) I - II
- B) I - III
- C) II - III
- D) I - II - III

27. Aşağıdakilerden hangisi iki yönlü trafik işaretidir?

A)



B)



C)



D)



28. Şekildeki trafik işaretinin adı nedir?



- A) Düşük banket
- B) Dikkat
- C) Okul geçidi
- D) Yol ver

29. Şekildeki trafik işareti neyi bildirir?



- A) Sadece tarım traktörünün girebileceğini
- B) Tarım traktörlerinin park edebileceğini
- C) Tarım traktörünün giremeyeceğini
- D) Tarım traktörünün geçebileceğini

30. Şekildeki trafik işareti neyi bildirir?



- A) Kamyonların öndeki taşıtı geçmesinin yasak olduğunu
- B) Kamyonlar için geçme yasağının sona erdiğini
- C) Tehlikeli madde taşıyan taşıtın giremeyeceğini
- D) Geçme yasağının sona erdiğini

31. Aşağıdakilerden hangisi taşıt trafiğine kapalı yol trafik işaretidir?

A)



B)



C)



D)







4. GRUP





TRAFİK ve ÇEVRE BİLGİSİ

N

32. Aşağıdakilerden hangisi hız sınırlaması sonu trafik işaretidir?

- A)  B) 
- C)  D) 

33. Aşağıdaki taşıtların hangisinde yangın söndürme cihazının bulundurulması zorunludur?

- A)  B) 
- C)  D) 

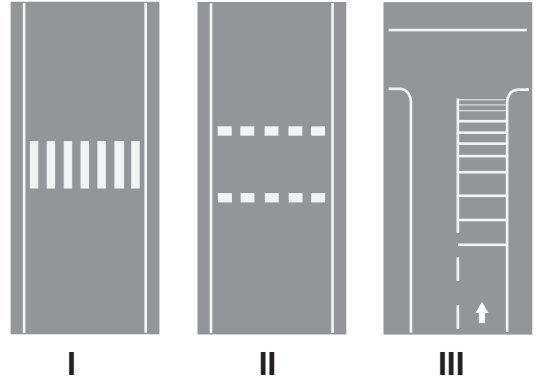
34. Sürücülerin aşağıda verilen davranışlarından hangisi çevreyi olumsuz etkiler?

- A) Araçlarını gereksiz yere çalışır hâlde tutmaları
B) Araçların bakımlarını zamanında yaptırmaları
C) Araç hızına uygun viteste seyretmeleri
D) Egzoz emisyon kontrollerini zamanında yaptırmaları

35. Kişilerin huzurunu, ruh ve beden sağlığını bozacak seviyedeki istenmeyen seslere ne denir?

- A) Sesli ilan
B) Duyuru
C) Gürültü
D) Konuşma

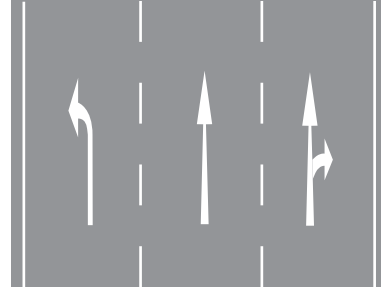
36.



Yukarıdaki numaralandırılmış taşıt yollarının hangilerinde yaya geçidi vardır?

- A) I - II
B) I - III
C) II - III
D) I - II - III

37. Kavşaklara yaklaşırken yol üzerine çizilmiş şekildeki oklar sürücülere neyi bildirir?

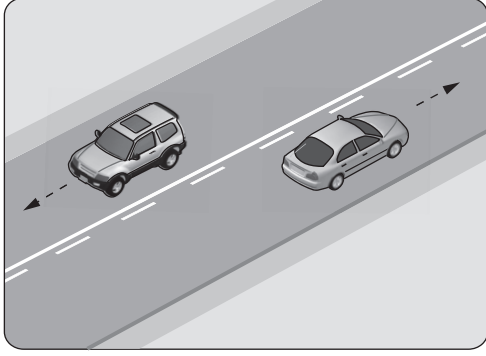


- A) Hızın artırılması gerektiğini
B) Sağa ve sola dönülemeyeceğini
C) Durma, duraklama ve park etmenin yasaklanmış olduğunu
D) Seyir yönüne uygun şeridin kullanılması gerektiğini

38. Aşağıdaki davranışlardan hangisi trafiğin akışını olumsuz etkiler?

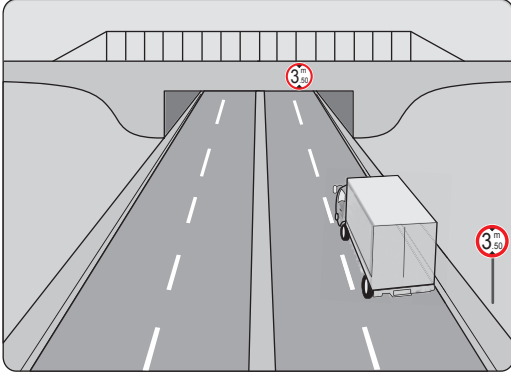
- A) Gidişe ayrılan yolda sürekli en soldaki şeridi işgal etmek
B) Çok şeritli yollarda hızın gerektirdiği şeritten seyretmek
C) Gidiş yönüne göre en sağdaki şeritten seyretmek
D) Girilecek şeritteki aracın geçmesini beklemek

39. Şekildeki yol çizgileri aşağıdakilerden hangisini bildirmez?



- A) Kesik çizgi tarafındaki aracın önündeki aracı geçebileceğini
 B) Devamlı çizgi tarafındaki aracın önündeki aracı geçemeyeceğini
 C) Kesik çizgi tarafındaki yolun sadece ağır taşıtlarca kullanılacağını
 D) Devamlı çizgi tarafındaki aracın kendi şeridinde seyretmesi gerektiğini

40. Kamyon sürücüsü, şekildeki alt geçitten geçerken aşağıdakilerden hangisini dikkate almalıdır?



- A) Taşıma sınırını
 B) Dingil ağırlığını
 C) Geçme yasağını
 D) Sınırlı yükseklik gabarisini

41. I- Aracın yük ve teknik özelliğine
 II- Aracın cinsine uygun hız sınırlamalarına
 III- Görüş, yol, hava ve trafik durumuna
 Sürücüler, hızlarını yukarıdakilerden hangilerine göre ayarlamak zorundadır?

- A) I - II
 B) I - III
 C) II - III
 D) I - II - III

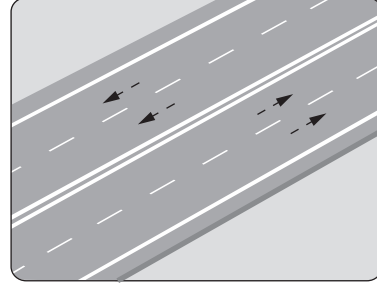
42. Aşağıdakilerden hangisi Karayolları Trafik Kanunu'na göre sürücü olabilmenin şartlarından biri değildir?

- A) Bir meslek sahibi olmak
 B) Belirli bir eğitim seviyesine sahip olmak
 C) Kullanacağı araca göre belirli bir yaşın üzerinde olmak
 D) Sürücülük yapmaya uygun olduğunu gösterir sağlık raporu almak

43. Yayaların, hayvanların ve araçların kara yolu üzerindeki hâl ve hareketlerine ne denir?

- A) Taşıma
 B) Trafik
 C) Ulaşım
 D) Erişme

44. Şekildeki kara yoluna ne ad verilir?



- A) İki yönlü kara yolu
 B) Tek yönlü kara yolu
 C) Bölünmüş kara yolu
 D) Erişme kontrollü kara yolu

45. İşaret levhalarıyla ilgili olarak aşağıdaki davranışlardan hangisi trafiği tehlikeye düşürmez?

- A) Yerlerinin değiştirilmesi
 B) Üzerlerine yazı yazılması
 C) Eskiyenlerin yenileriyle değiştirilmesi
 D) Görülmesi engellenecek şekilde araç park edilmesi

46. Aksine bir durum yoksa, sürücü kırmızı ışıkta ne yapmalıdır?

- A) Aracını durdurmalıdır.
 B) Durmadan geçmelidir.
 C) Gelen araç yoksa dikkatli geçmelidir.
 D) Yayalar geçebileceği için yavaş geçmelidir.

47. Trafik görevlisinin hangi hareketi geceleyin "geç" işaretidir?

A)



B)



C)



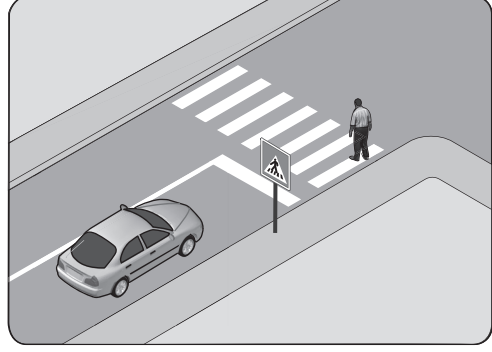
D)



48. Okul taşıtlarının arkasındaki DUR işaretinin yanması neyi bildirir?

- A) Taşıtın geri manevra yaptığını
- B) Taşıtın arıza yapmış olduğunu
- C) Taşıtın okula yaklaşmış olduğunu
- D) Öğrencilerin indirilip bindirildiğini

49. Şekildeki durumda, sürücünün aşağıdakilerden hangisini yapması yanlıştır?



- A) Yaya geçinceye kadar durması
- B) Yaya geçidine uygun mesafede durması
- C) Yayayı ikaz ederek hızlanmasını istemesi
- D) Yaya geçidine yaklaşırken hızını azaltması

50. Kontrolsüz demir yolu geçidine yaklaşan sürücülerin aşağıdakilerden hangisini yapması doğrudur?

- A) Hızlarını artırarak geçmesi
- B) Uygun mesafede mutlaka durması
- C) Demir yolu çok hatlı ise yavaş geçmesi
- D) Demir yolu tek hatlı ise hızlı bir şekilde geçmesi

**TRAFİK VE ÇEVRE BİLGİSİ TESTİ BİTTİ.
MOTOR VE ARAÇ TEKNİĞİ BİLGİSİ TESTİNE
GEÇİNİZ.**

1. Fren pedalına basıldığında, frenleme kuvvetinin basınçlı hava ile sağlandığı fren sistemi aşağıdakilerden hangisidir?

- A) Havalı fren sistemi
- B) Hidrolik fren sistemi
- C) Mekanik fren sistemi
- D) Elektrikli fren sistemi

2. Soğuk havalarda araç, el freni çekili hâlde park edilirse aşağıdakilerden hangisi meydana gelebilir?

- A) El freninin yağlanması
- B) Fren hidroliğinin azalması
- C) Fren sisteminin hava yapması
- D) Fren balatalarının donarak kampanaya yapışması

3. Resimde görülen seyir hâlindeki aracın arkasındaki kırmızı lambaların aniden yanması, trafikteki diğer sürücülere aşağıdakilerden hangisini bildirir?



- A) Aracın sola döneceğini
- B) Aracın sağa döneceğini
- C) Araçta frenleme yapıldığını
- D) Aracın geri gelmekte olduğunu

4. Seyir hâlindeyken araçtan yanık kablo kokusu alınırsa aşağıdakilerden hangisi yapılır?

- A) Yakıt seviyesi kontrol edilir.
- B) Önemsenmez, devam edilir.
- C) Lastiklerin hava basıncı kontrol edilir.
- D) Durulur, kontak kapatılır ve akü bağlantısı çıkartılır.

5. Elektrik devresini yüksek akıma karşı koruyan devre elemanı hangisidir?

- A) Soket
- B) Ampul
- C) Sigorta
- D) Buji

6. Aşağıdakilerden hangisi akünün kendiliğinden boşalmasına neden olur?

- A) Kutup başlarının sıkı olması
- B) Kutup başlarının temiz olması
- C) Akü reklam etiketinin yırtılması
- D) Üst kısmında pisliklerin birikmesi

7. Akünün kutup başlarını oksitten korumak için aşağıdakilerin hangisi kullanılabilir?

- A) Gres yağı
- B) Alkol
- C) Benzin
- D) Saf su

8. Akünün artı (+) kutup başı, eksi (-) kutup başına göre nasıldır?

- A) Uzun
- B) Daha kalın
- C) Kısa
- D) Daha ince





9. Motor çalıştığı sürece aracın elektrik ihtiyacını karşılayan sistem aşağıdakilerden hangisidir?

- A) Şarj sistemi
- B) Marş sistemi
- C) Yakıt sistemi
- D) Soğutma sistemi

10. Motoru çalıştırmak için uzun süre ve sıkça marş yapılması aşağıdakilerden hangisinin ömrünü kısaltır?

- A) Diferansiyelin
- B) Far ampulünün
- C) Marş motorunun
- D) Silecek motorunun

11. Aracın gösterge panelinde, aşağıdaki ikaz ışıklarından hangisinin yanıyor olması uzun hüzmeli farların açık olduğunu bildirir?

- A)  B) 
- C)  D) 

12. Aşağıdakilerden hangisi, motorun soğutma sisteminde yapılması gereken kontrollerden birisidir?

- A) Antifriz kontrolü
B) Yağ seviyesi kontrolü
C) Elektrolit seviyesi kontrolü
D) Hidrolik yağ seviyesi kontrolü

13. Aşağıdakilerden hangisinin arızalanması, soğutma sisteminde su yeterli olduğu hâlde, motorun fazla ısınmasına sebep olabilir?

- A) Bujilerin
B) Termostatın
C) Karbüratörün
D) Endüksiyon bobininin

14. Aracın radyatör hortumlarında çatlaklar varsa ne yapılır?

- A) Yapıştırılır. B) İple sarılır.
C) Bantlanır. D) Değiştirilir.

15. Aşağıdakilerden hangisi araçlarda gücün kaynağıdır?

- A) Şaft B) Motor
C) Tekerlek D) Vites kutusu

16. Aşağıdakilerden hangisi, kaza anında ölüm ve yaralanmaları en aza indirmek amacıyla sürücü ve yolcular tarafından kullanılır?

- A) Polen filtresi B) Park sensörü
C) Emniyet kemeri D) Açılabilir tavan

17. Otomobillerde, mekanizmayı oluşturan motor, tekerlek, şasi vb. bölümlerin dışında kalan, görünen dış bölüme ne ad verilir?

- A) Karoseri B) Kavrama
C) Manifold D) Süspansiyon

18. Marşa basılıp motor çalıştığı anda, aracın gösterge panelinde aşağıdakilerden hangisinin sönmesi gerekir?

- A) Kısa farlar ikaz ışığı
B) Yağ basıncı ikaz ışığı
C) El freni çekili ikaz ışığı
D) Sinyal lambası ikaz ışığı

19. Motorda, çalışan parçaların temizliğini hangi sistem sağlar?

- A) Yağlama sistemi B) Şarj sistemi
C) Ateşleme sistemi D) Soğutma sistemi

20. Araçta motorun alıştırılması (rodaj) zamanı doluncaya kadar aşağıdakilerden hangisinin yapılması doğrudur?

- A) Ani duruş ve kalkış yapılması
B) Motorun tam yükte çalıştırılması
C) Motor devrinin çok yükseltilmemesi
D) Motor soğukken çok çabuk hızlanması

21. Aşağıdakilerden hangisi aracın süspansiyon sisteminde bulunan yayların salınımlarını kontrol altına alan parçadır?

- A) Diferansiyel B) Amortisör
C) Mafsal D) Şaft

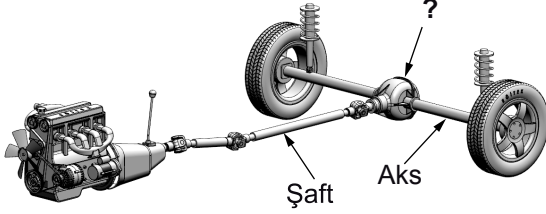
22. Aşağıdakilerden hangisi süspansiyon sisteminin görevlerindedir?

- A) Sürüş konforunu azaltmak
B) Aracı yavaşlatmak ve durdurmak
C) Aracı istenilen istikamete yönlendirmek
D) Yolun yapısından kaynaklanan titreşimleri sönmölemek

23. Aşağıdakilerden hangisi lastiklerin aşırı şişirilmesi sonucunda oluşabilir?

- A) Yakıt tüketiminin artması
- B) Sürüş konforunun artması
- C) Fren performansının azalması
- D) Lastik yan yüzeylerinde aşınmanın artması

24.



Şekilde soru işareti (?) ile gösterilen güç aktarma organının adı nedir?

- A) Diferansiyel
- B) Kavrama
- C) Volan
- D) Vites Kutusu

25. Aşağıdakilerden hangisi balanssız tekerleğin araç üzerindeki etkilerinden biridir?

- A) Motorun hararet yapması
- B) Motor suyuna yağ karışması
- C) Manifoldlarda kaçakların oluşması
- D) Lastiklerin hızlı ve düzensiz aşınması



26. Kavrama (debriyaj) sistemi, motorun hareketinin hangi aktarma organına iletilmesinde veya kesilmesinde görev yapar?

- A) Volana
- B) Vites kutusuna
- C) Fren balatalarına
- D) Marş motoruna

27. Araçlarda rot ayarı yapılmasının sebebi aşağıdakilerden hangisidir?

- A) Aracı yavaş kullanmak için
- B) Aracın hareket etmesini engellemek için
- C) Lastik hava basıncını istenilen değerde tutmak için
- D) Düzensiz lastik aşınmalarını önlemek ve aracın düzgün istikamet takibi için

28. Seyir hâlindeki aracın gösterge panelinde aşağıdaki ikaz ışıklarından hangisinin yanıyor olması, trafik kurallarına uymak şartıyla derhâl durulması gerektiğini belirtir?

- A) 
- B) 
- C) 
- D) 

29. Aşağıdakilerden hangisi rölanti devrinin yüksek olmasına bağlı olarak meydana gelir?

- A) Yakıt tüketiminin artması
- B) Yakıt tüketiminin düşmesi
- C) Motorun sarsıntılı çalışması
- D) Motorda yağlamanın olmaması

30. Dizel motorlu araçları çalıştırırken marşa basmadan önce gösterge panelindeki ikaz ışıklarından hangisinin sönmesi beklenmelidir?

- A) 
- B) 
- C) 
- D) 

31. Yakıt içerisinde toz, su, pislik varsa motor nasıl çalışır?

- A) Rölantide
- B) Yüksek devirde
- C) Zengin karışımla
- D) Düzensiz, tekleyerek

32. Aşağıdakilerden hangisi dizel motorun soğuk havalarda geç çalışmasına neden olur?

- A) Isıtma bujisinin arızalı olması
- B) Hararet müşirinin arızalı olması
- C) Enjeksiyon basıncının yüksek olması
- D) Besleme pompasının fazla yakıt göndermesi

33. Hangisi yakıt filtresinin görevidir?

- A) Motor yağını temizlemek
- B) Yakıtı enjektörlere göndermek
- C) Motora giden yakıtı temizlemek
- D) Motora giren havayı temizlemek

34. Aşağıdakilerden hangisi enjektör arızasının bir sonucudur?

- A) Motorun zor çalışması
- B) Motorun iyi soğutulmaması
- C) Yağ lambasının motor çalışınca sönmemesi
- D) Şarj lambasının motor çalışınca sönmemesi

35. Dizel motorlarda yakıtın ateşlenmesi nasıl olur?

- A) Buji kıvılcımı ile
- B) Elektrik motoru ile
- C) Dışarıdan ısıtılarak
- D) Sıkıştırılan havanın sıcaklığı ile

36. Dizel motorlarda sıkıştırılmış hava üzerine enjektörle aşağıdakilerden hangisi püskürtülür?

- A) Motorin
- B) Antifiriz
- C) Hidrolik yağı
- D) Su buharı

37. Motora alınan hava içerisindeki toz ve kum zerrelerini aşağıdakilerden hangisi temizler?

- A) Emme supabı
- B) Emme manifoldu
- C) Karbüratör
- D) Hava filtresi

38. Silindir kapağı hangisinin parçasıdır?

- A) Vites kutusunun
- B) Motorun
- C) Diferansiyelin
- D) Yakıt deposunun

39. Motorun alt tarafını kapatarak hareketli parçalarını dış etkenlerden koruyan ve motor yağına depoluk eden parça hangisidir?

- A) Benzin deposu
- B) Radyatör
- C) Karter
- D) Silindir kapağı

40. Aşağıdakilerden hangisi dizel motorun parçası değildir?

- A) Enjektör
- B) Distribütör
- C) Isıtma bujisi
- D) Yakıt pompası

TEST BİTTİ.
CEVAPLARINIZI KONTROL EDİNİZ.

SINAV SÜRESİNCE UYULACAK KURALLAR

1. Adaylar, sınavın başladığı andan itibaren, salon görevlilerinin tüm uyarılarına uymak zorundadırlar.
2. Sınav başladıktan sonra adayların salon görevlileri ve birbirleri ile konuşmaları, kalem, silgi vb. şeyleri istemeleri yasaktır.
3. Sınav sırasında kopya çeken, çekmeye teşebbüs eden, kopya veren ya da kopya çekilmesine yardım eden, kurallara ve uyarılara uymayan adayların sınavları geçersiz sayılacaktır.
4. Adaylar sınav süresince, sınav giriş belgesi ile birlikte kimlik belgelerinden birini (nüfus cüzdanı, pasaport veya sürücü belgesini) masalarının üzerinde bulunduracaktır.
5. Sınav evraklarını teslim etmeyen, soru kitapçıklarının sayfalarından bir kısmını eksik teslim edenlerin sınavları geçersiz sayılacak, ayrıca haklarında yasal işlem yapılacaktır.

SALON GÖREVLİLERİNCE SINAV BAŞLAMADAN ÖNCE ADAYLARA YAPILACAK SON UYARI

Soracağınız bir şey var mı? Varsa, şimdi sorunuz; sınav başladıktan sonra sorularınıza cevap verilmeyecektir. Hazır mısınız? Sınav, okulun bütün salonlarında aynı anda başlayacağı için başlama zilini beraberce bekleyelim. Hepinize başarılar dileriz.

(Salon başkanı başlama ve bitiş saatini tahtaya yazacaktır.)

Bu kitapçığın her hakkı saklıdır. Hangi amaçla olursa olsun, kitapçığın tamamının veya bir kısmının Millî Eğitim Bakanlığı Eğitim Teknolojileri Genel Müdürlüğünün yazılı izni olmadan kopya edilmesi, fotoğraflarının çekilmesi, bilgisayar ortamına alınması, herhangi bir yolla çoğaltılması, yayımlanması veya başka bir amaçla kullanılması yasaktır. Bu yasağa uymayanlar, doğabilecek cezai sorumluluğu ve kitapçığın hazırlanmasındaki mali külfeti peşinen kabullenmiş sayılır.

“BAŞLAYINIZ.” DENİLMEDEN SORU KİTAPÇIĞINI AÇMAYINIZ.

4. GRUP**CEVAP ANAHTARI****N**

İLK YARDIM BİLGİSİ	TRAFİK VE ÇEVRE BİLGİSİ	MOTOR VE ARAÇ TEKNİĞİ BİLGİSİ
1. C	1. C	1. A
2. B	2. D	2. D
3. A	3. A	3. C
4. C	4. C	4. D
5. D	5. B	5. C
6. B	6. D	6. D
7. B	7. B	7. A
8. D	8. A	8. B
9. A	9. D	9. A
10. C	10. B	10. C
11. D	11. C	11. B
12. B	12. D	12. A
13. D	13. C	13. B
14. A	14. A	14. D
15. C	15. D	15. B
16. D	16. B	16. C
17. A	17. A	17. A
18. A	18. B	18. B
19. C	19. B	19. A
20. A	20. A	20. C
21. C	21. D	21. B
22. A	22. A	22. D
23. B	23. D	23. C
24. D	24. C	24. A
25. B	25. D	25. D
26. C	26. C	26. B
27. B	27. A	27. D
28. D	28. B	28. C
29. B	29. C	29. A
30. D	30. A	30. B
	31. B	31. D
	32. C	32. A
	33. A	33. C
	34. A	34. A
	35. C	35. D
	36. A	36. A
	37. D	37. D
	38. A	38. B
	39. C	39. C
	40. D	40. B
	41. D	
	42. A	
	43. B	
	44. C	
	45. C	
	46. A	
	47. B	
	48. D	
	49. C	
	50. B	